

**МИНИСТЕРСТВО ПРОСВЕЩЕНИЯ РОССИЙСКОЙ ФЕДЕРАЦИИ**

**Министерство образования Тверской области**

**Отдел образования Администрации Старицкого муниципального**

**округа Тверской области**

**МБОУ «Луковниковская СОШ им. вице-адмирала В.А. Корнилова»**

**РАССМОТРЕНО**

**Руководитель МО**

\_\_\_\_\_  
Ракунова В.Н.  
Протокол №1 от «22»  
августа 2025 г.

**СОГЛАСОВАНО**

**Заместитель директора  
по УВР**

\_\_\_\_\_  
Юнина О.В.  
от «22» августа 2025 г.

**УТВЕРЖДЕНО**

**Директор школы**

\_\_\_\_\_  
Васильева О.М.  
Приказ №112 от «22»  
августа 2025 г.

**РАБОЧАЯ ПРОГРАММА**

**(ID 7137345)**

**учебного курса «Геометрия»**

**для обучающихся 7-9 классов**

**Луковниково 2025**

## ПОЯСНИТЕЛЬНАЯ ЗАПИСКА

Геометрия как один из основных разделов школьной математики, имеющий своей целью обеспечить изучение свойств и размеров фигур, их отношений и взаимное расположение, опирается на логическую, доказательную линию. Ценность изучения геометрии на уровне основного общего образования заключается в том, что обучающийся учится проводить доказательные рассуждения, строить логические умозаключения, доказывать истинные утверждения и строить контрпримеры к ложным, проводить рассуждения «от противного», отличать свойства от признаков, формулировать обратные утверждения.

Второй целью изучения геометрии является использование её как инструмента при решении как математических, так и практических задач, встречающихся в реальной жизни. Обучающийся должен научиться определить геометрическую фигуру, описать словами данный чертёж или рисунок, найти площадь земельного участка, рассчитать необходимую длину оптоволоконного кабеля или требуемые размеры гаража для автомобиля. Этому соответствует вторая, вычислительная линия в изучении геометрии. При решении задач практического характера обучающийся учится строить математические модели реальных жизненных ситуаций, проводить вычисления и оценивать адекватность полученного результата.

Крайне важно подчёркивать связи геометрии с другими учебными предметами, мотивировать использовать определения геометрических фигур и понятий, демонстрировать применение полученных умений в физике и технике. Эти связи наиболее ярко видны в темах «Векторы», «Тригонометрические соотношения», «Метод координат» и «Теорема Пифагора».

Учебный курс «Геометрия» включает следующие основные разделы содержания: «Геометрические фигуры и их свойства», «Измерение геометрических величин», «Декартовы координаты на плоскости», «Векторы», «Движения плоскости», «Преобразования подобия».

На изучение учебного курса «Геометрия» отводится 204 часа: в 7 классе – 68 часов (2 часа в неделю), в 8 классе – 68 часов (2 часа в неделю), в 9 классе – 68 часов (2 часа в неделю).

# СОДЕРЖАНИЕ ОБУЧЕНИЯ

## 7 КЛАСС

Начальные понятия геометрии. Точка, прямая, отрезок, луч. Угол. Виды углов. Вертикальные и смежные углы. Биссектриса угла. Ломаная, многоугольник. Параллельность и перпендикулярность прямых.

Симметричные фигуры. Основные свойства осевой симметрии. Примеры симметрии в окружающем мире.

Основные построения с помощью циркуля и линейки. Треугольник. Высота, медиана, биссектриса, их свойства.

Равнобедренный и равносторонний треугольники. Неравенство треугольника.

Свойства и признаки равнобедренного треугольника. Признаки равенства треугольников.

Свойства и признаки параллельных прямых. Сумма углов треугольника. Внешние углы треугольника.

Прямоугольный треугольник. Свойство медианы прямоугольного треугольника, проведённой к гипотенузе. Признаки равенства прямоугольных треугольников. Прямоугольный треугольник с углом в  $30^\circ$ .

Неравенства в геометрии: неравенство треугольника, неравенство о длине ломаной, теорема о большем угле и большей стороне треугольника. Перпендикуляр и наклонная.

Геометрическое место точек. Биссектриса угла и серединный перпендикуляр к отрезку как геометрические места точек.

Окружность и круг, хорда и диаметр, их свойства. Взаимное расположение окружности и прямой. Касательная и секущая к окружности. Окружность, вписанная в угол. Вписанная и описанная окружности треугольника.

## 8 КЛАСС

Четырёхугольники. Параллелограмм, его признаки и свойства. Частные случаи параллелограммов (прямоугольник, ромб, квадрат), их признаки и свойства. Трапеция, равнобокая трапеция, её свойства и признаки. Прямоугольная трапеция.

Метод удвоения медианы. Центральная симметрия. Теорема Фалеса и теорема о пропорциональных отрезках.

Средние линии треугольника и трапеции. Центр масс треугольника.

Подобие треугольников, коэффициент подобия. Признаки подобия треугольников. Применение подобия при решении практических задач.

Свойства площадей геометрических фигур. Формулы для площади треугольника, параллелограмма, ромба и трапеции. Отношение площадей подобных фигур.

Вычисление площадей треугольников и многоугольников на клетчатой бумаге.

Теорема Пифагора. Применение теоремы Пифагора при решении практических задач.

Синус, косинус, тангенс острого угла прямоугольного треугольника. Основное тригонометрическое тождество. Тригонометрические функции углов в  $30^\circ$ ,  $45^\circ$  и  $60^\circ$ .

Вписанные и центральные углы, угол между касательной и хордой. Углы между хордами и секущими. Вписанные и описанные четырёхугольники. Взаимное расположение двух окружностей. Касание окружностей. Общие касательные к двум окружностям.

## **9 КЛАСС**

Синус, косинус, тангенс углов от  $0^\circ$  до  $180^\circ$ . Основное тригонометрическое тождество. Формулы приведения.

Решение треугольников. Теорема косинусов и теорема синусов. Решение практических задач с использованием теоремы косинусов и теоремы синусов.

Преобразование подобия. Подобие соответственных элементов.

Теорема о произведении отрезков хорд, теоремы о произведении отрезков секущих, теорема о квадрате касательной.

Вектор, длина (модуль) вектора, сонаправленные векторы, противоположно направленные векторы, коллинеарность векторов, равенство векторов, операции над векторами. Разложение вектора по двум неколлинеарным векторам. Координаты вектора. Скалярное произведение векторов, применение для нахождения длин и углов.

Декартовы координаты на плоскости. Уравнения прямой и окружности в координатах, пересечение окружностей и прямых. Метод координат и его применение.

Правильные многоугольники. Длина окружности. Градусная и радианная мера угла, вычисление длин дуг окружностей. Площадь круга, сектора, сегмента.

Движения плоскости и внутренние симметрии фигур (элементарные представления). Параллельный перенос. Поворот.

**С учетом рабочей программы воспитания предусмотрено:**

- ✓ установление доверительных отношений с обучающимися, способствующих позитивному восприятию обучающимися требований и просьб учителя, привлечению их внимания к обсуждаемой на уроке информации, активизации их познавательной деятельности;
- ✓ побуждение обучающихся соблюдать на уроке общепринятые нормы поведения, правила общения со старшими и сверстниками, принципы учебной дисциплины и самоорганизации;
- ✓ привлечение внимания обучающихся к ценностному аспекту изучаемых на уроках явлений, организация их работы с получаемой на уроке социально значимой информацией;
- ✓ включение в урок игровых процедур с целью поддержания мотивации обучающихся к получению знаний, налаживанию позитивных межличностных отношений в классе;
- ✓ применение на уроке интерактивных форм работы с обучающимися: интеллектуальных игр, стимулирующих познавательную мотивацию обучающихся;
- ✓ инициирование и поддержка исследовательской деятельности обучающихся;
- ✓ демонстрация обучающимся примеров ответственного, гражданского поведения, проявления человеколюбия и добросердечности через подбор соответствующих задач для решения.

# **ПЛАНИРУЕМЫЕ РЕЗУЛЬТАТЫ ОСВОЕНИЯ ПРОГРАММЫ УЧЕБНОГО КУРСА «ГЕОМЕТРИЯ» НА УРОВНЕ ОСНОВНОГО ОБЩЕГО ОБРАЗОВАНИЯ**

## **ЛИЧНОСТНЫЕ РЕЗУЛЬТАТЫ**

**Личностные результаты** освоения программы учебного курса «Геометрия» характеризуются:

### **1) патриотическое воспитание:**

проявлением интереса к прошлому и настоящему российской математики, ценностным отношением к достижениям российских математиков и российской математической школы, к использованию этих достижений в других науках и прикладных сферах;

### **2) гражданское и духовно-нравственное воспитание:**

готовностью к выполнению обязанностей гражданина и реализации его прав, представлением о математических основах функционирования различных структур, явлений, процедур гражданского общества (например, выборы, опросы), готовностью к обсуждению этических проблем, связанных с практическим применением достижений науки, осознанием важности морально-этических принципов в деятельности учёного;

### **3) трудовое воспитание:**

установкой на активное участие в решении практических задач математической направленности, осознанием важности математического образования на протяжении всей жизни для успешной профессиональной деятельности и развитием необходимых умений, осознанным выбором и построением индивидуальной траектории образования и жизненных планов с учётом личных интересов и общественных потребностей;

### **4) эстетическое воспитание:**

способностью к эмоциональному и эстетическому восприятию математических объектов, задач, решений, рассуждений, умению видеть математические закономерности в искусстве;

### **5) ценности научного познания:**

ориентацией в деятельности на современную систему научных представлений об основных закономерностях развития человека, природы и общества, пониманием математической науки как сферы человеческой деятельности, этапов её развития и значимости для развития цивилизации, овладением языком математики и математической культурой как средством познания мира, овладением простейшими навыками исследовательской деятельности;

## **6) физическое воспитание, формирование культуры здоровья и эмоционального благополучия:**

готовностью применять математические знания в интересах своего здоровья, ведения здорового образа жизни (здоровое питание, сбалансированный режим занятий и отдыха, регулярная физическая активность), сформированностью навыка рефлексии, признанием своего права на ошибку и такого же права другого человека;

## **7) экологическое воспитание:**

ориентацией на применение математических знаний для решения задач в области сохранности окружающей среды, планирования поступков и оценки их возможных последствий для окружающей среды, осознанием глобального характера экологических проблем и путей их решения;

## **8) адаптация к изменяющимся условиям социальной и природной среды:**

готовностью к действиям в условиях неопределённости, повышению уровня своей компетентности через практическую деятельность, в том числе умение учиться у других людей, приобретать в совместной деятельности новые знания, навыки и компетенции из опыта других;

необходимостью в формировании новых знаний, в том числе формулировать идеи, понятия, гипотезы об объектах и явлениях, в том числе ранее неизвестных, осознавать дефициты собственных знаний и компетентностей, планировать своё развитие;

способностью осознавать стрессовую ситуацию, воспринимать стрессовую ситуацию как вызов, требующий контрмер, корректировать принимаемые решения и действия, формулировать и оценивать риски и последствия, формировать опыт.

## **МЕТАПРЕДМЕТНЫЕ РЕЗУЛЬТАТЫ**

### **Познавательные универсальные учебные действия**

#### **Базовые логические действия:**

- выявлять и характеризовать существенные признаки математических объектов, понятий, отношений между понятиями, формулировать определения понятий, устанавливать существенный признак классификации, основания для обобщения и сравнения, критерии проводимого анализа;
- воспринимать, формулировать и преобразовывать суждения: утвердительные и отрицательные, единичные, частные и общие, условные;

- выявлять математические закономерности, взаимосвязи и противоречия в фактах, данных, наблюдениях и утверждениях, предлагать критерии для выявления закономерностей и противоречий;
- делать выводы с использованием законов логики, дедуктивных и индуктивных умозаключений, умозаключений по аналогии;
- разбирать доказательства математических утверждений (прямые и от противного), проводить самостоятельно несложные доказательства математических фактов, выстраивать аргументацию, приводить примеры и контрпримеры, обосновывать собственные рассуждения;
- выбирать способ решения учебной задачи (сравнивать несколько вариантов решения, выбирать наиболее подходящий с учётом самостоятельно выделенных критериев).

#### **Базовые исследовательские действия:**

- использовать вопросы как исследовательский инструмент познания, формулировать вопросы, фиксирующие противоречие, проблему, самостоятельно устанавливать искомое и данное, формировать гипотезу, аргументировать свою позицию, мнение;
- проводить по самостоятельно составленному плану несложный эксперимент, небольшое исследование по установлению особенностей математического объекта, зависимостей объектов между собой;
- самостоятельно формулировать обобщения и выводы по результатам проведённого наблюдения, исследования, оценивать достоверность полученных результатов, выводов и обобщений;
- прогнозировать возможное развитие процесса, а также выдвигать предположения о его развитии в новых условиях.

#### **Работа с информацией:**

- выявлять недостаточность и избыточность информации, данных, необходимых для решения задачи;
- выбирать, анализировать, систематизировать и интерпретировать информацию различных видов и форм представления;
- выбирать форму представления информации и иллюстрировать решаемые задачи схемами, диаграммами, иной графикой и их комбинациями;
- оценивать надёжность информации по критериям, предложенным учителем или сформулированным самостоятельно.

#### **Коммуникативные универсальные учебные действия:**

- воспринимать и формулировать суждения в соответствии с условиями и целями общения, ясно, точно, грамотно выражать свою точку зрения



- в устных и письменных текстах, давать пояснения по ходу решения задачи, комментировать полученный результат;
- в ходе обсуждения задавать вопросы по существу обсуждаемой темы, проблемы, решаемой задачи, высказывать идеи, нацеленные на поиск решения, сопоставлять свои суждения с суждениями других участников диалога, обнаруживать различие и сходство позиций, в корректной форме формулировать разногласия, свои возражения;
  - представлять результаты решения задачи, эксперимента, исследования, проекта, самостоятельно выбирать формат выступления с учётом задач презентации и особенностей аудитории;
  - понимать и использовать преимущества командной и индивидуальной работы при решении учебных математических задач;
  - принимать цель совместной деятельности, планировать организацию совместной работы, распределять виды работ, договариваться, обсуждать процесс и результат работы, обобщать мнения нескольких людей;
  - участвовать в групповых формах работы (обсуждения, обмен мнениями, мозговые штурмы и другие), выполнять свою часть работы и координировать свои действия с другими членами команды, оценивать качество своего вклада в общий продукт по критериям, сформулированным участниками взаимодействия.

## **Регулятивные универсальные учебные действия**

### **Самоорганизация:**

- самостоятельно составлять план, алгоритм решения задачи (или его часть), выбирать способ решения с учётом имеющихся ресурсов и собственных возможностей, аргументировать и корректировать варианты решений с учётом новой информации.

### **Самоконтроль, эмоциональный интеллект:**

- владеть способами самопроверки, самоконтроля процесса и результата решения математической задачи;
- предвидеть трудности, которые могут возникнуть при решении задачи, вносить коррективы в деятельность на основе новых обстоятельств, найденных ошибок, выявленных трудностей;
- оценивать соответствие результата деятельности поставленной цели и условиям, объяснять причины достижения или недостижения цели, находить ошибку, давать оценку приобретённому опыту.

## **ПРЕДМЕТНЫЕ РЕЗУЛЬТАТЫ**

К концу обучения в 7 классе обучающийся получит следующие предметные результаты:

Распознавать изученные геометрические фигуры, определять их взаимное расположение, изображать геометрические фигуры, выполнять чертежи по условию задачи. Измерять линейные и угловые величины. Решать задачи на вычисление длин отрезков и величин углов.

Делать грубую оценку линейных и угловых величин предметов в реальной жизни, размеров природных объектов. Различать размеры этих объектов по порядку величины.

Строить чертежи к геометрическим задачам.

Пользоваться признаками равенства треугольников, использовать признаки и свойства равнобедренных треугольников при решении задач.

Проводить логические рассуждения с использованием геометрических теорем.

Пользоваться признаками равенства прямоугольных треугольников, свойством медианы, проведённой к гипотенузе прямоугольного треугольника, в решении геометрических задач.

Определять параллельность прямых с помощью углов, которые образует с ними секущая. Определять параллельность прямых с помощью равенства расстояний от точек одной прямой до точек другой прямой.

Решать задачи на клетчатой бумаге.

Проводить вычисления и находить числовые и буквенные значения углов в геометрических задачах с использованием суммы углов треугольников и многоугольников, свойств углов, образованных при пересечении двух параллельных прямых секущей. Решать практические задачи на нахождение углов.

Владеть понятием геометрического места точек. Уметь определять биссектрису угла и серединный перпендикуляр к отрезку как геометрические места точек.

Формулировать определения окружности и круга, хорды и диаметра окружности, пользоваться их свойствами. Уметь применять эти свойства при решении задач.

Владеть понятием описанной около треугольника окружности, уметь находить её центр. Пользоваться фактами о том, что биссектрисы углов треугольника пересекаются в одной точке, и о том, что серединные перпендикуляры к сторонам треугольника пересекаются в одной точке.

Владеть понятием касательной к окружности, пользоваться теоремой о перпендикулярности касательной и радиуса, проведённого к точке касания.

Пользоваться простейшими геометрическими неравенствами, понимать их практический смысл.

Проводить основные геометрические построения с помощью циркуля и линейки.

К концу обучения **в 8 классе** обучающийся получит следующие предметные результаты:

Распознавать основные виды четырёхугольников, их элементы, пользоваться их свойствами при решении геометрических задач.

Применять свойства точки пересечения медиан треугольника (центра масс) в решении задач.

Владеть понятием средней линии треугольника и трапеции, применять их свойства при решении геометрических задач. Пользоваться теоремой Фалеса и теоремой о пропорциональных отрезках, применять их для решения практических задач.

Применять признаки подобия треугольников в решении геометрических задач.

Пользоваться теоремой Пифагора для решения геометрических и практических задач. Строить математическую модель в практических задачах, самостоятельно делать чертёж и находить соответствующие длины.

Владеть понятиями синуса, косинуса и тангенса острого угла прямоугольного треугольника. Пользоваться этими понятиями для решения практических задач.

Вычислять (различными способами) площадь треугольника и площади многоугольных фигур (пользуясь, где необходимо, калькулятором). Применять полученные умения в практических задачах.

Владеть понятиями вписанного и центрального угла, использовать теоремы о вписанных углах, углах между хордами (секущими) и угле между касательной и хордой при решении геометрических задач.

Владеть понятием описанного четырёхугольника, применять свойства описанного четырёхугольника при решении задач.

Применять полученные знания на практике – строить математические модели для задач реальной жизни и проводить соответствующие вычисления с применением подобия и тригонометрии (пользуясь, где необходимо, калькулятором).

К концу обучения **в 9 классе** обучающийся получит следующие предметные результаты:

Знать тригонометрические функции острых углов, находить с их помощью различные элементы прямоугольного треугольника («решение

прямоугольных треугольников»). Находить (с помощью калькулятора) длины и углы для нетабличных значений.

Пользоваться формулами приведения и основным тригонометрическим тождеством для нахождения соотношений между тригонометрическими величинами.

Использовать теоремы синусов и косинусов для нахождения различных элементов треугольника («решение треугольников»), применять их при решении геометрических задач.

Владеть понятиями преобразования подобия, соответственных элементов подобных фигур. Пользоваться свойствами подобия произвольных фигур, уметь вычислять длины и находить углы у подобных фигур. Применять свойства подобия в практических задачах. Уметь приводить примеры подобных фигур в окружающем мире.

Пользоваться теоремами о произведении отрезков хорд, о произведении отрезков секущих, о квадрате касательной.

Пользоваться векторами, понимать их геометрический и физический смысл, применять их в решении геометрических и физических задач. Применять скалярное произведение векторов для нахождения длин и углов.

Пользоваться методом координат на плоскости, применять его в решении геометрических и практических задач.

Владеть понятиями правильного многоугольника, длины окружности, длины дуги окружности и радианной меры угла, уметь вычислять площадь круга и его частей. Применять полученные умения в практических задачах.

Находить оси (или центры) симметрии фигур, применять движения плоскости в простейших случаях.

Применять полученные знания на практике – строить математические модели для задач реальной жизни и проводить соответствующие вычисления с применением подобия и тригонометрических функций (пользуясь, где необходимо, калькулятором).

# ТЕМАТИЧЕСКОЕ ПЛАНИРОВАНИЕ

## 7 КЛАСС

№ п/п	Наименование разделов и тем программы	Количество часов		Практические работы	Электронные (цифровые) образовательные ресурсы
		Всего	Контрольные работы		
1	Простейшие геометрические фигуры и их свойства. Измерение геометрических величин	14			Библиотека ЦОК <a href="https://m.edsoo.ru/7f415e2e">https://m.edsoo.ru/7f415e2e</a>
2	Треугольники	22	1		Библиотека ЦОК <a href="https://m.edsoo.ru/7f415e2e">https://m.edsoo.ru/7f415e2e</a>
3	Параллельные прямые, сумма углов треугольника	14	1		Библиотека ЦОК <a href="https://m.edsoo.ru/7f415e2e">https://m.edsoo.ru/7f415e2e</a>
4	Окружность и круг. Геометрические построения	14	1		Библиотека ЦОК <a href="https://m.edsoo.ru/7f415e2e">https://m.edsoo.ru/7f415e2e</a>
5	Повторение, обобщение знаний	4	1		Библиотека ЦОК <a href="https://m.edsoo.ru/7f415e2e">https://m.edsoo.ru/7f415e2e</a>
ОБЩЕЕ КОЛИЧЕСТВО ЧАСОВ ПО ПРОГРАММЕ		68	4	0	

## 8 КЛАСС

№ п/п	Наименование разделов и тем программы	Количество часов			Электронные (цифровые) образовательные ресурсы
		Всего	Контрольные работы	Практические работы	
1	Четырёхугольники	12	1		Библиотека ЦОК <a href="https://m.edsoo.ru/7f417e18">https://m.edsoo.ru/7f417e18</a>
2	Теорема Фалеса и теорема о пропорциональных отрезках, подобные треугольники	15	1		Библиотека ЦОК <a href="https://m.edsoo.ru/7f417e18">https://m.edsoo.ru/7f417e18</a>
3	Площадь. Нахождение площадей треугольников и многоугольных фигур. Площади подобных фигур	14	1		Библиотека ЦОК <a href="https://m.edsoo.ru/7f417e18">https://m.edsoo.ru/7f417e18</a>
4	Теорема Пифагора и начала тригонометрии	10	1		Библиотека ЦОК <a href="https://m.edsoo.ru/7f417e18">https://m.edsoo.ru/7f417e18</a>
5	Углы в окружности. Вписанные и описанные четырехугольники. Касательные к окружности. Касание окружностей	13	1		Библиотека ЦОК <a href="https://m.edsoo.ru/7f417e18">https://m.edsoo.ru/7f417e18</a>
6	Повторение, обобщение знаний	4	1		Библиотека ЦОК <a href="https://m.edsoo.ru/7f417e18">https://m.edsoo.ru/7f417e18</a>
ОБЩЕЕ КОЛИЧЕСТВО ЧАСОВ ПО ПРОГРАММЕ		68	6	0	

## 9 КЛАСС

№ п/п	Наименование разделов и тем программы	Количество часов		Практические работы	Электронные (цифровые) образовательные ресурсы
		Всего	Контрольные работы		
1	Тригонометрия. Теоремы косинусов и синусов. Решение треугольников	16	1		Библиотека ЦОК <a href="https://m.edsoo.ru/7f41a12c">https://m.edsoo.ru/7f41a12c</a>
2	Преобразование подобия. Метрические соотношения в окружности	10	1		Библиотека ЦОК <a href="https://m.edsoo.ru/7f41a12c">https://m.edsoo.ru/7f41a12c</a>
3	Векторы	12	1		Библиотека ЦОК <a href="https://m.edsoo.ru/7f41a12c">https://m.edsoo.ru/7f41a12c</a>
4	Декартовы координаты на плоскости	9	1		Библиотека ЦОК <a href="https://m.edsoo.ru/7f41a12c">https://m.edsoo.ru/7f41a12c</a>
5	Правильные многоугольники. Длина окружности и площадь круга. Вычисление площадей	8			Библиотека ЦОК <a href="https://m.edsoo.ru/7f41a12c">https://m.edsoo.ru/7f41a12c</a>
6	Движения плоскости	6			Библиотека ЦОК <a href="https://m.edsoo.ru/7f41a12c">https://m.edsoo.ru/7f41a12c</a>
7	Повторение, обобщение, систематизация знаний	7	2		Библиотека ЦОК <a href="https://m.edsoo.ru/7f41a12c">https://m.edsoo.ru/7f41a12c</a>
ОБЩЕЕ КОЛИЧЕСТВО ЧАСОВ ПО ПРОГРАММЕ		68	6	0	





## ПОУРОЧНОЕ ПЛАНИРОВАНИЕ

### 7 КЛАСС

№ п/п	Тема урока	Количество часов	Дата изучения	Электронные цифровые образовательные ресурсы
----------	------------	------------------	------------------	--

		Всего	Контрольные работы	Практические работы		
1	Простейшие геометрические объекты	1			02.09.2025	Библиотека ЦОК <a href="https://m.edsoo.ru/8866b724">https://m.edsoo.ru/8866b724</a>
2	Многоугольник, ломаная	1			04.09.2025	Библиотека ЦОК <a href="https://m.edsoo.ru/8866cb6a">https://m.edsoo.ru/8866cb6a</a>
3	Смежные и вертикальные углы	1			09.09.2025	Библиотека ЦОК <a href="https://m.edsoo.ru/8866c5c0">https://m.edsoo.ru/8866c5c0</a>
4	Смежные и вертикальные углы	1			11.09.2025	Библиотека ЦОК <a href="https://m.edsoo.ru/8866c7be">https://m.edsoo.ru/8866c7be</a>
5	Смежные и вертикальные углы	1			16.09.2025	
6	Смежные и вертикальные углы	1			18.09.2025	
7	Смежные и вертикальные углы	1			23.09.2025	
8	Смежные и вертикальные углы	1			25.09.2025	

9	Измерение линейных и угловых величин, вычисление отрезков и углов	1			30.09.2025	
10	Измерение линейных и угловых величин, вычисление отрезков и углов	1			02.10.2025	Библиотека ЦОК <a href="https://m.edsoo.ru/8866c3ea">https://m.edsoo.ru/8866c3ea</a>
11	Измерение линейных и угловых величин, вычисление отрезков и углов	1			07.10.2025	
12	Измерение линейных и угловых величин, вычисление отрезков и углов	1			09.10.2025	
13	Периметр и площадь фигур, составленных из прямоугольников	1			14.10.2025	
14	Периметр и площадь фигур, составленных из прямоугольников	1			16.10.2025	
15	Понятие о равных треугольниках и первичные представления о равных фигурах	1			21.10.2025	Библиотека ЦОК <a href="https://m.edsoo.ru/8866ce80">https://m.edsoo.ru/8866ce80</a>
16	Три признака равенства треугольников	1			23.10.2025	Библиотека ЦОК <a href="https://m.edsoo.ru/8866d1fa">https://m.edsoo.ru/8866d1fa</a>
17	Три признака равенства треугольников	1			06.11.2025	Библиотека ЦОК <a href="https://m.edsoo.ru/8866d34e">https://m.edsoo.ru/8866d34e</a>
18	Три признака равенства треугольников	1			11.11.2025	Библиотека ЦОК <a href="https://m.edsoo.ru/8866e01e">https://m.edsoo.ru/8866e01e</a>
19	Три признака равенства треугольников	1			13.11.2025	

20	Три признака равенства треугольников	1			18.11.2025	
21	Три признака равенства треугольников	1			20.11.2025	Библиотека ЦОК <a href="https://m.edsoo.ru/8866e88e">https://m.edsoo.ru/8866e88e</a>
22	Признаки равенства прямоугольных треугольников	1			25.11.2025	
23	Признаки равенства прямоугольных треугольников	1			27.11.2025	
24	Свойство медианы прямоугольного треугольника, проведённой к гипотенузе	1			02.12.2025	Библиотека ЦОК <a href="https://m.edsoo.ru/8866e9ec">https://m.edsoo.ru/8866e9ec</a>
25	Свойство медианы прямоугольного треугольника, проведённой к гипотенузе	1			04.12.2025	
26	Равнобедренные и равносторонние треугольники	1			09.12.2025	Библиотека ЦОК <a href="https://m.edsoo.ru/8866d6fa">https://m.edsoo.ru/8866d6fa</a>
27	Признаки и свойства равнобедренного треугольника	1			11.12.2025	Библиотека ЦОК <a href="https://m.edsoo.ru/8866d880">https://m.edsoo.ru/8866d880</a>
28	Признаки и свойства равнобедренного треугольника	1			16.12.2025	Библиотека ЦОК <a href="https://m.edsoo.ru/8866d880">https://m.edsoo.ru/8866d880</a>
29	Признаки и свойства равнобедренного треугольника	1			18.12.2025	Библиотека ЦОК <a href="https://m.edsoo.ru/8866e26c">https://m.edsoo.ru/8866e26c</a>
30	Неравенства в геометрии	1			23.12.2025	
31	Неравенства в геометрии	1			25.12.2025	Библиотека ЦОК <a href="https://m.edsoo.ru/8866e3a2">https://m.edsoo.ru/8866e3a2</a>

32	Неравенства в геометрии	1			30.12.2025	
33	Неравенства в геометрии	1			13.01.2026	
34	Прямоугольный треугольник с углом в $30^\circ$	1			15.01.2026	Библиотека ЦОК <a href="https://m.edsoo.ru/8866eb22">https://m.edsoo.ru/8866eb22</a>
35	Прямоугольный треугольник с углом в $30^\circ$	1			20.01.2026	
36	Контрольная работа по теме "Треугольники"	1	1		22.01.2026	Библиотека ЦОК <a href="https://m.edsoo.ru/8866ecbc">https://m.edsoo.ru/8866ecbc</a>
37	Параллельные прямые, их свойства	1			27.01.2026	Библиотека ЦОК <a href="https://m.edsoo.ru/8866ef64">https://m.edsoo.ru/8866ef64</a>
38	Пятый постулат Евклида	1			29.01.2026	
39	Накрест лежащие, соответственные и односторонние углы, образованные при пересечении параллельных прямых секущей	1			03.02.2026	Библиотека ЦОК <a href="https://m.edsoo.ru/8866f086">https://m.edsoo.ru/8866f086</a>
40	Накрест лежащие, соответственные и односторонние углы, образованные при пересечении параллельных прямых секущей	1			05.02.2026	
41	Накрест лежащие, соответственные и односторонние углы, образованные при	1			10.02.2026	

	пересечении параллельных прямых секущей					
42	Накрест лежащие, соответственные и односторонние углы, образованные при пересечении параллельных прямых секущей	1			12.02.2026	
43	Накрест лежащие, соответственные и односторонние углы, образованные при пересечении параллельных прямых секущей	1			17.02.2026	Библиотека ЦОК <a href="https://m.edsoo.ru/8866f3b0">https://m.edsoo.ru/8866f3b0</a>
44	Признак параллельности прямых через равенство расстояний от точек одной прямой до второй прямой	1			19.02.2026	
45	Признак параллельности прямых через равенство расстояний от точек одной прямой до второй прямой	1			24.02.2026	
46	Сумма углов треугольника	1			26.02.2026	Библиотека ЦОК <a href="https://m.edsoo.ru/8866f630">https://m.edsoo.ru/8866f630</a>
47	Сумма углов треугольника	1			03.03.2026	Библиотека ЦОК <a href="https://m.edsoo.ru/8866f8ba">https://m.edsoo.ru/8866f8ba</a>
48	Внешние углы треугольника	1			05.03.2026	Библиотека ЦОК <a href="https://m.edsoo.ru/8866fa5e">https://m.edsoo.ru/8866fa5e</a>
49	Внешние углы треугольника	1			10.03.2026	

50	Контрольная работа по теме "Параллельные прямые, сумма углов треугольника"	1	1		12.03.2026	Библиотека ЦОК <a href="https://m.edsoo.ru/8866fe6e">https://m.edsoo.ru/8866fe6e</a>
51	Окружность, хорды и диаметр, их свойства	1			17.03.2026	Библиотека ЦОК <a href="https://m.edsoo.ru/88670800">https://m.edsoo.ru/88670800</a>
52	Касательная к окружности	1			19.03.2026	Библиотека ЦОК <a href="https://m.edsoo.ru/88670e9a">https://m.edsoo.ru/88670e9a</a>
53	Окружность, вписанная в угол	1			24.03.2026	
54	Окружность, вписанная в угол	1			26.03.2026	
55	Понятие о ГМТ, применение в задачах	1			07.04.2026	Библиотека ЦОК <a href="https://m.edsoo.ru/8867013e">https://m.edsoo.ru/8867013e</a>
56	Понятие о ГМТ, применение в задачах	1			09.04.2026	Библиотека ЦОК <a href="https://m.edsoo.ru/88670508">https://m.edsoo.ru/88670508</a>
57	Биссектриса и серединный перпендикуляр как геометрические места точек	1			14.04.2026	
58	Окружность, описанная около треугольника	1			16.04.2026	Библиотека ЦОК <a href="https://m.edsoo.ru/88670a62">https://m.edsoo.ru/88670a62</a>
59	Окружность, описанная около треугольника	1			21.04.2026	
60	Окружность, вписанная в треугольник	1			23.04.2026	Библиотека ЦОК <a href="https://m.edsoo.ru/8867103e">https://m.edsoo.ru/8867103e</a>
61	Окружность, вписанная в треугольник	1			28.04.2026	

62	Простейшие задачи на построение	1			30.04.2026	Библиотека ЦОК <a href="https://m.edsoo.ru/88671188">https://m.edsoo.ru/88671188</a>
63	Простейшие задачи на построение	1			05.05.2026	Библиотека ЦОК <a href="https://m.edsoo.ru/886712d2">https://m.edsoo.ru/886712d2</a>
64	Контрольная работа по теме "Окружность и круг. Геометрические построения"	1	1		07.05.2026	Библиотека ЦОК <a href="https://m.edsoo.ru/88671462">https://m.edsoo.ru/88671462</a>
65	Повторение и обобщение знаний основных понятий и методов курса 7 класса	1			12.05.2026	Библиотека ЦОК <a href="https://m.edsoo.ru/886715b6">https://m.edsoo.ru/886715b6</a>
66	Итоговая контрольная работа/ВПР	1	1		14.05.2026	Библиотека ЦОК <a href="https://m.edsoo.ru/886716ec">https://m.edsoo.ru/886716ec</a>
67	Повторение и обобщение знаний основных понятий и методов курса 7 класса	1			19.05.2026	
68	Повторение и обобщение знаний основных понятий и методов курса 7 класса	1			21.05.2026	Библиотека ЦОК <a href="https://m.edsoo.ru/886719bc">https://m.edsoo.ru/886719bc</a>
ОБЩЕЕ КОЛИЧЕСТВО ЧАСОВ ПО ПРОГРАММЕ		68	4	0		

## 8 КЛАСС

№ п/п	Тема урока	Количество часов			Дата изучения	Электронные цифровые образовательные ресурсы
		Всего	Контрольные работы	Практические работы		
1	Параллелограмм, его признаки и свойства	1			02.09.2025	Библиотека ЦОК <a href="https://m.edsoo.ru/88671af2">https://m.edsoo.ru/88671af2</a>
2	Параллелограмм, его признаки и свойства	1			04.09.2025	Библиотека ЦОК <a href="https://m.edsoo.ru/88671ca0">https://m.edsoo.ru/88671ca0</a>
3	Параллелограмм, его признаки и свойства	1			09.09.2025	Библиотека ЦОК <a href="https://m.edsoo.ru/88671ca0">https://m.edsoo.ru/88671ca0</a>
4	Частные случаи параллелограммов (прямоугольник, ромб, квадрат), их признаки и свойства	1			11.09.2025	Библиотека ЦОК <a href="https://m.edsoo.ru/88671dea">https://m.edsoo.ru/88671dea</a>
5	Частные случаи параллелограммов (прямоугольник, ромб, квадрат), их признаки и свойства	1			16.09.2025	Библиотека ЦОК <a href="https://m.edsoo.ru/88671f20">https://m.edsoo.ru/88671f20</a>
6	Частные случаи параллелограммов (прямоугольник, ромб, квадрат), их признаки и свойства	1			18.09.2025	Библиотека ЦОК <a href="https://m.edsoo.ru/8867209c">https://m.edsoo.ru/8867209c</a>
7	Трапеция	1			23.09.2025	Библиотека ЦОК <a href="https://m.edsoo.ru/88672358">https://m.edsoo.ru/88672358</a>
8	Равнобокая и прямоугольная трапеции	1			25.09.2025	Библиотека ЦОК <a href="https://m.edsoo.ru/8867252e">https://m.edsoo.ru/8867252e</a>



9	Равнобокая и прямоугольная трапеции	1			30.09.2025	Библиотека ЦОК <a href="https://m.edsoo.ru/88672858">https://m.edsoo.ru/88672858</a>
10	Метод удвоения медианы	1			02.10.2025	Библиотека ЦОК <a href="https://m.edsoo.ru/88672b14">https://m.edsoo.ru/88672b14</a>
11	Центральная симметрия	1			07.10.2025	Библиотека ЦОК <a href="https://m.edsoo.ru/88672b14">https://m.edsoo.ru/88672b14</a>
12	Контрольная работа по теме "Четырёхугольники"	1	1		09.10.2025	Библиотека ЦОК <a href="https://m.edsoo.ru/88672c9a">https://m.edsoo.ru/88672c9a</a>
13	Теорема Фалеса и теорема о пропорциональных отрезках	1			14.10.2025	Библиотека ЦОК <a href="https://m.edsoo.ru/8867337a">https://m.edsoo.ru/8867337a</a>
14	Средняя линия треугольника	1			16.10.2025	Библиотека ЦОК <a href="https://m.edsoo.ru/88672e0c">https://m.edsoo.ru/88672e0c</a>
15	Средняя линия треугольника	1			21.10.2025	Библиотека ЦОК <a href="https://m.edsoo.ru/88672f38">https://m.edsoo.ru/88672f38</a>
16	Трапеция, её средняя линия	1			23.10.2025	Библиотека ЦОК <a href="https://m.edsoo.ru/88672358">https://m.edsoo.ru/88672358</a>
17	Трапеция, её средняя линия	1			06.11.2025	Библиотека ЦОК <a href="https://m.edsoo.ru/88673064">https://m.edsoo.ru/88673064</a>
18	Пропорциональные отрезки	1			11.11.2025	Библиотека ЦОК <a href="https://m.edsoo.ru/88673794">https://m.edsoo.ru/88673794</a>
19	Пропорциональные отрезки	1			13.11.2025	Библиотека ЦОК <a href="https://m.edsoo.ru/88673794">https://m.edsoo.ru/88673794</a>
20	Центр масс в треугольнике	1			18.11.2025	Библиотека ЦОК <a href="https://m.edsoo.ru/886738fc">https://m.edsoo.ru/886738fc</a>
21	Подобные треугольники	1			20.11.2025	Библиотека ЦОК <a href="https://m.edsoo.ru/88673a78">https://m.edsoo.ru/88673a78</a>

22	Три признака подобия треугольников	1			25.11.2025	Библиотека ЦОК <a href="https://m.edsoo.ru/88673bae">https://m.edsoo.ru/88673bae</a>
23	Три признака подобия треугольников	1			27.11.2025	Библиотека ЦОК <a href="https://m.edsoo.ru/88673d52">https://m.edsoo.ru/88673d52</a>
24	Три признака подобия треугольников	1			02.12.2025	Библиотека ЦОК <a href="https://m.edsoo.ru/8867400e">https://m.edsoo.ru/8867400e</a>
25	Три признака подобия треугольников	1			04.12.2025	
26	Применение подобия при решении практических задач	1			09.12.2025	
27	Контрольная работа по теме "Подобные треугольники"	1	1		11.12.2025	Библиотека ЦОК <a href="https://m.edsoo.ru/8867445a">https://m.edsoo.ru/8867445a</a>
28	Свойства площадей геометрических фигур	1			16.12.2025	Библиотека ЦОК <a href="https://m.edsoo.ru/886745fe">https://m.edsoo.ru/886745fe</a>
29	Формулы для площади треугольника, параллелограмма	1			18.12.2025	Библиотека ЦОК <a href="https://m.edsoo.ru/88674860">https://m.edsoo.ru/88674860</a>
30	Формулы для площади треугольника, параллелограмма	1			23.12.2025	Библиотека ЦОК <a href="https://m.edsoo.ru/88674a22">https://m.edsoo.ru/88674a22</a>
31	Формулы для площади треугольника, параллелограмма	1			25.12.2025	Библиотека ЦОК <a href="https://m.edsoo.ru/88674a22">https://m.edsoo.ru/88674a22</a>
32	Формулы для площади треугольника, параллелограмма	1			30.12.2025	Библиотека ЦОК <a href="https://m.edsoo.ru/88675288">https://m.edsoo.ru/88675288</a>
33	Формулы для площади треугольника, параллелограмма	1			13.01.2026	Библиотека ЦОК <a href="https://m.edsoo.ru/8867542c">https://m.edsoo.ru/8867542c</a>
34	Вычисление площадей сложных фигур	1			15.01.2026	Библиотека ЦОК <a href="https://m.edsoo.ru/88674e78">https://m.edsoo.ru/88674e78</a>

35	Площади фигур на клетчатой бумаге	1			20.01.2026	Библиотека ЦОК <a href="https://m.edsoo.ru/8867473e">https://m.edsoo.ru/8867473e</a>
36	Площади подобных фигур	1			22.01.2026	
37	Площади подобных фигур	1			27.01.2026	
38	Задачи с практическим содержанием	1			29.01.2026	Библиотека ЦОК <a href="https://m.edsoo.ru/88675558">https://m.edsoo.ru/88675558</a>
39	Задачи с практическим содержанием	1			03.02.2026	Библиотека ЦОК <a href="https://m.edsoo.ru/88675684">https://m.edsoo.ru/88675684</a>
40	Решение задач с помощью метода вспомогательной площади	1			05.02.2026	Библиотека ЦОК <a href="https://m.edsoo.ru/88674f90">https://m.edsoo.ru/88674f90</a>
41	Контрольная работа по теме "Площадь"	1	1		10.02.2026	Библиотека ЦОК <a href="https://m.edsoo.ru/8867579c">https://m.edsoo.ru/8867579c</a>
42	Теорема Пифагора и её применение	1			12.02.2026	Библиотека ЦОК <a href="https://m.edsoo.ru/88675918">https://m.edsoo.ru/88675918</a>
43	Теорема Пифагора и её применение	1			17.02.2026	Библиотека ЦОК <a href="https://m.edsoo.ru/88675918">https://m.edsoo.ru/88675918</a>
44	Теорема Пифагора и её применение	1			19.02.2026	Библиотека ЦОК <a href="https://m.edsoo.ru/88675abc">https://m.edsoo.ru/88675abc</a>
45	Теорема Пифагора и её применение	1			24.02.2026	
46	Теорема Пифагора и её применение	1			26.02.2026	
47	Определение тригонометрических функций	1			03.03.2026	Библиотека ЦОК <a href="https://m.edsoo.ru/88675d32">https://m.edsoo.ru/88675d32</a>

	острого угла прямоугольного треугольника, тригонометрические соотношения в прямоугольном треугольнике					
48	Основное тригонометрическое тождество	1			05.03.2026	Библиотека ЦОК <a href="https://m.edsoo.ru/88675f44">https://m.edsoo.ru/88675f44</a>
49	Основное тригонометрическое тождество	1			10.03.2026	
50	Основное тригонометрическое тождество	1			12.03.2026	
51	Контрольная работа по теме "Теорема Пифагора и начала тригонометрии"	1	1		17.03.2026	Библиотека ЦОК <a href="https://m.edsoo.ru/8a1407e8">https://m.edsoo.ru/8a1407e8</a>
52	Вписанные и центральные углы, угол между касательной и хордой	1			19.03.2026	Библиотека ЦОК <a href="https://m.edsoo.ru/8a1415b2">https://m.edsoo.ru/8a1415b2</a>
53	Вписанные и центральные углы, угол между касательной и хордой	1			24.03.2026	Библиотека ЦОК <a href="https://m.edsoo.ru/8a141940">https://m.edsoo.ru/8a141940</a>
54	Вписанные и центральные углы, угол между касательной и хордой	1			26.03.2026	Библиотека ЦОК <a href="https://m.edsoo.ru/8a141b34">https://m.edsoo.ru/8a141b34</a>
55	Углы между хордами и секущими	1			07.04.2026	
56	Углы между хордами и секущими	1			09.04.2026	

57	Вписанные и описанные четырёхугольники, их признаки и свойства	1			14.04.2026	Библиотека ЦОК <a href="https://m.edsoo.ru/8a140f86">https://m.edsoo.ru/8a140f86</a>
58	Вписанные и описанные четырёхугольники, их признаки и свойства	1			16.04.2026	Библиотека ЦОК <a href="https://m.edsoo.ru/8a1416d4">https://m.edsoo.ru/8a1416d4</a>
59	Вписанные и описанные четырёхугольники, их признаки и свойства	1			21.04.2026	Библиотека ЦОК <a href="https://m.edsoo.ru/8a1416d4">https://m.edsoo.ru/8a1416d4</a>
60	Применение свойств вписанных и описанных четырёхугольников при решении геометрических задач	1			23.04.2026	
61	Применение свойств вписанных и описанных четырёхугольников при решении геометрических задач	1			28.04.2026	
62	Взаимное расположение двух окружностей, общие касательные	1			30.04.2026	Библиотека ЦОК <a href="https://m.edsoo.ru/8a1410a8">https://m.edsoo.ru/8a1410a8</a>
63	Касание окружностей	1			05.05.2026	Библиотека ЦОК <a href="https://m.edsoo.ru/8a1410a8">https://m.edsoo.ru/8a1410a8</a>
64	Контрольная работа по теме "Углы в окружности. Вписанные и описанные четырёхугольники"	1	1		07.05.2026	Библиотека ЦОК <a href="https://m.edsoo.ru/8a141c88">https://m.edsoo.ru/8a141c88</a>
65	Повторение основных понятий и методов курсов 7 и 8 классов, обобщение знаний	1			12.05.2026	Библиотека ЦОК <a href="https://m.edsoo.ru/8a141ddc">https://m.edsoo.ru/8a141ddc</a>

66	Повторение основных понятий и методов курсов 7 и 8 классов, обобщение знаний	1			14.05.2026	Библиотека ЦОК <a href="https://m.edsoo.ru/8a141efe">https://m.edsoo.ru/8a141efe</a>
67	Итоговая контрольная работа/ Всероссийская проверочная работа	1	1		19.05.2026	Библиотека ЦОК <a href="https://m.edsoo.ru/8a142368">https://m.edsoo.ru/8a142368</a>
68	Повторение основных понятий и методов курсов 7 и 8 классов, обобщение знаний	1			22.05.2026	Библиотека ЦОК <a href="https://m.edsoo.ru/8a1420ac">https://m.edsoo.ru/8a1420ac</a>
ОБЩЕЕ КОЛИЧЕСТВО ЧАСОВ ПО ПРОГРАММЕ		68	6	0		

## 9 КЛАСС

№ п/п	Тема урока	Количество часов			Дата изучения	Электронные цифровые образовательные ресурсы
		Всего	Контрольные работы	Практические работы		
1	Определение тригонометрических функций углов от $0^\circ$ до $180^\circ$	1			02.09.2025	Библиотека ЦОК <a href="https://m.edsoo.ru/8a1424bc">https://m.edsoo.ru/8a1424bc</a>
2	Формулы приведения	1			04.09.2025	
3	Теорема косинусов	1			09.09.2025	Библиотека ЦОК <a href="https://m.edsoo.ru/8a14336c">https://m.edsoo.ru/8a14336c</a>
4	Теорема косинусов	1			11.09.2025	
5	Теорема косинусов	1			16.09.2025	Библиотека ЦОК <a href="https://m.edsoo.ru/8a142d5e">https://m.edsoo.ru/8a142d5e</a>
6	Теорема синусов	1			18.09.2025	Библиотека ЦОК <a href="https://m.edsoo.ru/8a142e8a">https://m.edsoo.ru/8a142e8a</a>
7	Теорема синусов	1			23.09.2025	
8	Теорема синусов	1			25.09.2025	
9	Нахождение длин сторон и величин углов треугольников	1			30.09.2025	Библиотека ЦОК <a href="https://m.edsoo.ru/8a1430b0">https://m.edsoo.ru/8a1430b0</a>
10	Решение треугольников	1			02.10.2025	Библиотека ЦОК <a href="https://m.edsoo.ru/8a142ac0">https://m.edsoo.ru/8a142ac0</a>

11	Решение треугольников	1			07.10.2025	Библиотека ЦОК <a href="https://m.edsoo.ru/8a142ac0">https://m.edsoo.ru/8a142ac0</a>
12	Решение треугольников	1			09.10.2025	Библиотека ЦОК <a href="https://m.edsoo.ru/8a142ac0">https://m.edsoo.ru/8a142ac0</a>
13	Решение треугольников	1			14.10.2025	Библиотека ЦОК <a href="https://m.edsoo.ru/8a142ac0">https://m.edsoo.ru/8a142ac0</a>
14	Практическое применение теорем синусов и косинусов	1			16.10.2025	Библиотека ЦОК <a href="https://m.edsoo.ru/8a142c3c">https://m.edsoo.ru/8a142c3c</a>
15	Практическое применение теорем синусов и косинусов	1			21.10.2025	
16	Контрольная работа по теме "Решение треугольников"	1	1		23.10.2025	Библиотека ЦОК <a href="https://m.edsoo.ru/8a14392a">https://m.edsoo.ru/8a14392a</a>
17	Понятие о преобразовании подобия	1			06.11.2025	Библиотека ЦОК <a href="https://m.edsoo.ru/8a143ab0">https://m.edsoo.ru/8a143ab0</a>
18	Соответственные элементы подобных фигур	1			11.11.2025	Библиотека ЦОК <a href="https://m.edsoo.ru/8a143de4">https://m.edsoo.ru/8a143de4</a>
19	Соответственные элементы подобных фигур	1			13.11.2025	
20	Теорема о произведении отрезков хорд, теорема о произведении отрезков секущих, теорема о квадрате касательной	1			18.11.2025	Библиотека ЦОК <a href="https://m.edsoo.ru/8a14406e">https://m.edsoo.ru/8a14406e</a>
21	Теорема о произведении отрезков хорд, теорема о произведении отрезков секущих, теорема о квадрате касательной	1			20.11.2025	Библиотека ЦОК <a href="https://m.edsoo.ru/8a1441a4">https://m.edsoo.ru/8a1441a4</a>
22	Теорема о произведении отрезков хорд, теорема о	1			25.11.2025	Библиотека ЦОК <a href="https://m.edsoo.ru/8a1442da">https://m.edsoo.ru/8a1442da</a>



	произведении отрезков секущих, теорема о квадрате касательной					
23	Применение теорем в решении геометрических задач	1			27.11.2025	Библиотека ЦОК <a href="https://m.edsoo.ru/8a143f06">https://m.edsoo.ru/8a143f06</a>
24	Применение теорем в решении геометрических задач	1			02.12.2025	Библиотека ЦОК <a href="https://m.edsoo.ru/8a1443fc">https://m.edsoo.ru/8a1443fc</a>
25	Применение теорем в решении геометрических задач	1			04.12.2025	Библиотека ЦОК <a href="https://m.edsoo.ru/8a144578">https://m.edsoo.ru/8a144578</a>
26	Контрольная работа по теме "Преобразование подобия. Метрические соотношения в окружности"	1	1		09.12.2025	Библиотека ЦОК <a href="https://m.edsoo.ru/8a1447a8">https://m.edsoo.ru/8a1447a8</a>
27	Определение векторов. Физический и геометрический смысл векторов	1			11.12.2025	Библиотека ЦОК <a href="https://m.edsoo.ru/8a144960">https://m.edsoo.ru/8a144960</a>
28	Сложение и вычитание векторов, умножение вектора на число	1			16.12.2025	Библиотека ЦОК <a href="https://m.edsoo.ru/8a144a8c">https://m.edsoo.ru/8a144a8c</a>
29	Сложение и вычитание векторов, умножение вектора на число	1			18.12.2025	Библиотека ЦОК <a href="https://m.edsoo.ru/8a144d52">https://m.edsoo.ru/8a144d52</a>
30	Сложение и вычитание векторов, умножение вектора на число	1			23.12.2025	
31	Разложение вектора по двум неколлинеарным векторам	1			25.12.2025	
32	Координаты вектора	1			30.12.2025	Библиотека ЦОК <a href="https://m.edsoo.ru/8a144fbe">https://m.edsoo.ru/8a144fbe</a>
33	Скалярное произведение векторов, его применение для нахождения длин и углов	1			13.01.2026	Библиотека ЦОК <a href="https://m.edsoo.ru/8a14539c">https://m.edsoo.ru/8a14539c</a>

34	Скалярное произведение векторов, его применение для нахождения длин и углов	1			15.01.2026	Библиотека ЦОК <a href="https://m.edsoo.ru/8a14550e">https://m.edsoo.ru/8a14550e</a>
35	Решение задач с помощью векторов	1			20.01.2026	Библиотека ЦОК <a href="https://m.edsoo.ru/8a144c3a">https://m.edsoo.ru/8a144c3a</a>
36	Решение задач с помощью векторов	1			22.01.2026	Библиотека ЦОК <a href="https://m.edsoo.ru/8a1458c4">https://m.edsoo.ru/8a1458c4</a>
37	Применение векторов для решения задач физики	1			27.01.2026	
38	Контрольная работа по теме "Векторы"	1	1		29.01.2026	Библиотека ЦОК <a href="https://m.edsoo.ru/8a145b08">https://m.edsoo.ru/8a145b08</a>
39	Декартовы координаты точек на плоскости	1			03.02.2026	
40	Уравнение прямой	1			05.02.2026	Библиотека ЦОК <a href="https://m.edsoo.ru/8a145c48">https://m.edsoo.ru/8a145c48</a>
41	Уравнение прямой	1			10.02.2026	
42	Уравнение окружности	1			12.02.2026	Библиотека ЦОК <a href="https://m.edsoo.ru/8a14635a">https://m.edsoo.ru/8a14635a</a>
43	Координаты точек пересечения окружности и прямой	1			17.02.2026	Библиотека ЦОК <a href="https://m.edsoo.ru/8a146620">https://m.edsoo.ru/8a146620</a>
44	Метод координат при решении геометрических задач, практических задач	1			19.02.2026	
45	Метод координат при решении геометрических задач, практических задач	1			24.02.2026	

46	Метод координат при решении геометрических задач, практических задач	1			26.02.2026	
47	Контрольная работа по теме "Декартовы координаты на плоскости"	1	1		03.03.2026	Библиотека ЦОК <a href="https://m.edsoo.ru/8a146e0e">https://m.edsoo.ru/8a146e0e</a>
48	Правильные многоугольники, вычисление их элементов	1			05.03.2026	Библиотека ЦОК <a href="https://m.edsoo.ru/8a146fda">https://m.edsoo.ru/8a146fda</a>
49	Число $\pi$ . Длина окружности	1			10.03.2026	Библиотека ЦОК <a href="https://m.edsoo.ru/8a1472c8">https://m.edsoo.ru/8a1472c8</a>
50	Число $\pi$ . Длина окружности	1			12.03.2026	Библиотека ЦОК <a href="https://m.edsoo.ru/8a14714c">https://m.edsoo.ru/8a14714c</a>
51	Длина дуги окружности	1			17.03.2026	
52	Радиианная мера угла	1			19.03.2026	Библиотека ЦОК <a href="https://m.edsoo.ru/8a14714c">https://m.edsoo.ru/8a14714c</a>
53	Площадь круга, сектора, сегмента	1			24.03.2026	Библиотека ЦОК <a href="https://m.edsoo.ru/8a147426">https://m.edsoo.ru/8a147426</a>
54	Площадь круга, сектора, сегмента	1			26.03.2026	Библиотека ЦОК <a href="https://m.edsoo.ru/8a147750">https://m.edsoo.ru/8a147750</a>
55	Площадь круга, сектора, сегмента	1			07.04.2026	Библиотека ЦОК <a href="https://m.edsoo.ru/8a147750">https://m.edsoo.ru/8a147750</a>
56	Понятие о движении плоскости	1			09.04.2026	Библиотека ЦОК <a href="https://m.edsoo.ru/8a147c82">https://m.edsoo.ru/8a147c82</a>
57	Параллельный перенос, поворот	1			14.04.2026	Библиотека ЦОК <a href="https://m.edsoo.ru/8a147f16">https://m.edsoo.ru/8a147f16</a>

58	Параллельный перенос, поворот	1			16.04.2026	Библиотека ЦОК <a href="https://m.edsoo.ru/8a147f16">https://m.edsoo.ru/8a147f16</a>
59	Параллельный перенос, поворот	1			21.04.2026	
60	Параллельный перенос, поворот	1			23.04.2026	
61	Применение движений при решении задач	1			28.04.2026	Библиотека ЦОК <a href="https://m.edsoo.ru/8a1480e2">https://m.edsoo.ru/8a1480e2</a>
62	Контрольная работа по темам "Правильные многоугольники. Окружность. Движения плоскости"	1	1		30.04.2026	
63	Повторение, обобщение, систематизация знаний. Измерение геометрических величин. Треугольники	1			05.05.2026	Библиотека ЦОК <a href="https://m.edsoo.ru/8a148524">https://m.edsoo.ru/8a148524</a>
64	Повторение, обобщение, систематизация знаний. Параллельные и перпендикулярные прямые	1			07.05.2026	Библиотека ЦОК <a href="https://m.edsoo.ru/8a148650">https://m.edsoo.ru/8a148650</a>
65	Повторение, обобщение, систематизация знаний. Окружность и круг. Геометрические построения. Углы в окружности	1			12.05.2026	
66	Повторение, обобщение, систематизация знаний.	1			14.05.2026	

	Вписанные и описанные окружности многоугольников					
67	Итоговая контрольная работа	1	1		19.05.2026	Библиотека ЦОК <a href="https://m.edsoo.ru/8a148920">https://m.edsoo.ru/8a148920</a>
68	Повторение, обобщение, систематизация знаний	1			21.05.2026	
ОБЩЕЕ КОЛИЧЕСТВО ЧАСОВ ПО ПРОГРАММЕ		68	6	0		



## ПРОВЕРЯЕМЫЕ ТРЕБОВАНИЯ К РЕЗУЛЬТАТАМ ОСВОЕНИЯ ОСНОВНОЙ ОБРАЗОВАТЕЛЬНОЙ ПРОГРАММЫ

### 7 КЛАСС

Код проверяемого результата	Проверяемые предметные результаты освоения основной образовательной программы основного общего образования
6	Геометрия
6.1	Распознавать изученные геометрические фигуры, определять их взаимное расположение, изображать геометрические фигуры, выполнять чертежи по условию задачи. Измерять линейные и угловые величины. Решать задачи на вычисление длин отрезков и величин углов
6.2	Делать грубую оценку линейных и угловых величин предметов в реальной жизни, размеров природных объектов. Различать размеры этих объектов по порядку величины
6.3	Строить чертежи к геометрическим задачам
6.4	Пользоваться признаками равенства треугольников, использовать признаки и свойства равнобедренных треугольников при решении задач
6.5	Проводить логические рассуждения с использованием геометрических теорем
6.6	Пользоваться признаками равенства прямоугольных треугольников, свойством медианы, проведённой к гипотенузе прямоугольного треугольника, в решении геометрических задач
6.7	Определять параллельность прямых с помощью углов, которые образует с ними секущая. Определять параллельность прямых с помощью равенства расстояний от точек одной прямой до точек другой прямой
6.8	Решать задачи на клетчатой бумаге
6.9	Проводить вычисления и находить числовые и буквенные значения углов в геометрических задачах с использованием

	суммы углов треугольников и многоугольников, свойств углов, образованных при пересечении двух параллельных прямых секущей. Решать практические задачи на нахождение углов
6.10	Владеть понятием геометрического места точек. Уметь определять биссектрису угла и серединный перпендикуляр к отрезку как геометрические места точек
6.11	Формулировать определения окружности и круга, хорды и диаметра окружности, пользоваться их свойствами. Уметь применять эти свойства при решении задач
6.12	Владеть понятием описанной около треугольника окружности, уметь находить её центр. Пользоваться фактами о том, что биссектрисы углов треугольника пересекаются в одной точке, и о том, что серединные перпендикуляры к сторонам треугольника пересекаются в одной точке
6.13	Владеть понятием касательной к окружности, пользоваться теоремой о перпендикулярности касательной и радиуса, проведённого к точке касания
6.14	Пользоваться простейшими геометрическими неравенствами, понимать их практический смысл
6.15	Проводить основные геометрические построения с помощью циркуля и линейки

## 8 КЛАСС

Код проверяемого результата	Проверяемые предметные результаты освоения основной образовательной программы основного общего образования
6	Геометрия
6.1	Распознавать основные виды четырёхугольников, их элементы, пользоваться их свойствами при решении геометрических задач
6.2	Применять свойства точки пересечения медиан треугольника (центра масс) в решении задач
6.3	Владеть понятием средней линии треугольника и трапеции, применять их свойства при решении геометрических задач.



	Пользоваться теоремой Фалеса и теоремой о пропорциональных отрезках, применять их для решения практических задач
6.4	Применять признаки подобия треугольников в решении геометрических задач
6.5	Пользоваться теоремой Пифагора для решения геометрических и практических задач. Строить математическую модель в практических задачах, самостоятельно делать чертёж и находить соответствующие длины
6.6	Владеть понятиями синуса, косинуса и тангенса острого угла прямоугольного треугольника. Пользоваться этими понятиями для решения практических задач
6.7	Вычислять (различными способами) площадь треугольника и площади многоугольных фигур (пользуясь, где необходимо, калькулятором). Применять полученные умения в практических задачах
6.8	Владеть понятиями вписанного и центрального угла, использовать теоремы о вписанных углах, углах между хордами (секущими) и угле между касательной и хордой при решении геометрических задач
6.9	Владеть понятием описанного четырёхугольника, применять свойства описанного четырёхугольника при решении задач
6.10	Применять полученные знания на практике – строить математические модели для задач реальной жизни и проводить соответствующие вычисления с применением подобия и тригонометрии (пользуясь, где необходимо, калькулятором)

## 9 КЛАСС

Код проверяемого результата	Проверяемые предметные результаты освоения основной образовательной программы основного общего образования
6	Геометрия
6.1	Знать тригонометрические функции острых углов, находить с их помощью различные элементы прямоугольного треугольника

	(«решение прямоугольных треугольников»). Находить (с помощью калькулятора) длины и углы для нетабличных значений
6.2	Пользоваться формулами приведения и основным тригонометрическим тождеством для нахождения соотношений между тригонометрическими величинами
6.3	Использовать теоремы синусов и косинусов для нахождения различных элементов треугольника («решение треугольников»), применять их при решении геометрических задач
6.4	Владеть понятиями преобразования подобия, соответственных элементов подобных фигур. Пользоваться свойствами подобия произвольных фигур, уметь вычислять длины и находить углы у подобных фигур. Применять свойства подобия в практических задачах. Уметь приводить примеры подобных фигур в окружающем мире
6.5	Пользоваться теоремами о произведении отрезков хорд, о произведении отрезков секущих, о квадрате касательной
6.6	Пользоваться векторами, понимать их геометрический и физический смысл, применять их в решении геометрических и физических задач. Применять скалярное произведение векторов для нахождения длин и углов
6.7	Пользоваться методом координат на плоскости, применять его в решении геометрических и практических задач
6.8	Владеть понятиями правильного многоугольника, длины окружности, длины дуги окружности и радианной меры угла, уметь вычислять площадь круга и его частей. Применять полученные умения в практических задачах
6.9	Находить оси или центры симметрии фигур, применять движения плоскости в простейших случаях
6.10	Применять полученные знания на практике – строить математические модели для задач реальной жизни и проводить соответствующие вычисления с применением подобия и

	тригонометрических функций (пользуясь, где необходимо, калькулятором)
--	---

## ПРОВЕРЯЕМЫЕ ЭЛЕМЕНТЫ СОДЕРЖАНИЯ

### 7 КЛАСС

Код	Проверяемый элемент содержания
6	Геометрия
6.1	Начальные понятия геометрии. Точка, прямая, отрезок, луч. Угол. Виды углов. Вертикальные и смежные углы. Биссектриса угла. Ломаная, многоугольник. Параллельность и перпендикулярность прямых
6.2	Симметричные фигуры. Основные свойства осевой симметрии. Примеры симметрии в окружающем мире
6.3	Основные построения с помощью циркуля и линейки. Треугольник. Высота, медиана, биссектриса, их свойства
6.4	Равнобедренный и равносторонний треугольники. Неравенство треугольника
6.5	Свойства и признаки равнобедренного треугольника. Признаки равенства треугольников
6.6	Свойства и признаки параллельных прямых. Сумма углов треугольника. Внешние углы треугольника
6.7	Прямоугольный треугольник. Свойство медианы прямоугольного треугольника, проведённой к гипотенузе. Признаки равенства прямоугольных треугольников. Прямоугольный треугольник с углом в $30^\circ$
6.8	Неравенства в геометрии: неравенство треугольника, неравенство о длине ломаной, теорема о большем угле и большей стороне треугольника. Перпендикуляр и наклонная
6.9	Геометрическое место точек. Биссектриса угла и серединный перпендикуляр к отрезку как геометрические места точек
6.10	Окружность и круг, хорда и диаметр, их свойства. Взаимное расположение окружности и прямой. Касательная и секущая к окружности

6.11	Окружность, вписанная в угол. Вписанная и описанная окружности треугольника
------	---

## 8 КЛАСС

Код	Проверяемый элемент содержания
6	Геометрия
6.1	Четырёхугольники. Параллелограмм, его признаки и свойства
6.2	Прямоугольник, ромб, квадрат, их признаки и свойства
6.3	Трапеция, равнобокая трапеция, её свойства и признаки. Прямоугольная трапеция
6.4	Метод удвоения медианы. Центральная симметрия. Теорема Фалеса и теорема о пропорциональных отрезках
6.5	Средние линии треугольника и трапеции. Центр масс треугольника
6.6	Подобие треугольников, коэффициент подобия. Признаки подобия треугольников. Применение подобия при решении практических задач
6.7	Формулы для площади треугольника, параллелограмма, ромба и трапеции
6.8	Свойства площадей геометрических фигур. Отношение площадей подобных фигур
6.9	Вычисление площадей треугольников и многоугольников на клетчатой бумаге
6.10	Теорема Пифагора. Применение теоремы Пифагора при решении практических задач
6.11	Синус, косинус, тангенс острого угла прямоугольного треугольника. Основное тригонометрическое тождество. Тригонометрические функции углов в $30^\circ$ , $45^\circ$ и $60^\circ$
6.12	Вписанные и центральные углы, угол между касательной и хордой. Углы между хордами и секущими
6.13	Вписанные и описанные четырёхугольники
6.14	Взаимное расположение двух окружностей. Касание окружностей. Общие касательные к двум окружностям

## 9 КЛАСС

Код	Проверяемый элемент содержания
6	Геометрия
6.1	Синус, косинус, тангенс углов от $0$ до $180^\circ$ . Основное тригонометрическое тождество. Формулы приведения
6.2	Решение треугольников. Теорема косинусов и теорема синусов. Решение практических задач с использованием теоремы косинусов и теоремы синусов
6.3	Преобразование подобия. Подобие соответственных элементов
6.4	Теорема о произведении отрезков хорд, теоремы о произведении отрезков секущих, теорема о квадрате касательной
6.5	Вектор, длина (модуль) вектора, сонаправленные векторы, противоположно направленные векторы, коллинеарность векторов, равенство векторов, операции над векторами. Разложение вектора по двум неколлинеарным векторам
6.6	Координаты вектора. Скалярное произведение векторов, применение для нахождения длин и углов
6.7	Декартовы координаты на плоскости. Уравнения прямой и окружности в координатах, пересечение окружностей и прямых. Метод координат и его применение
6.8	Правильные многоугольники
6.9	Длина окружности. Градусная и радианная мера угла, вычисление длин дуг окружностей
6.10	Площадь круга, сектора, сегмента
6.11	Движения плоскости и внутренние симметрии фигур (элементарные представления). Параллельный перенос. Поворот

# ПРОВЕРЯЕМЫЕ НА ОГЭ ПО МАТЕМАТИКЕ ТРЕБОВАНИЯ К РЕЗУЛЬТАТАМ ОСВОЕНИЯ ОСНОВНОЙ ОБРАЗОВАТЕЛЬНОЙ ПРОГРАММЫ ОСНОВНОГО ОБЩЕГО ОБРАЗОВАНИЯ

Код проверяемого требования	Проверяемые требования к предметным результатам освоения основной образовательной программы основного общего образования на основе ФГОС
1	Умение оперировать понятиями: множество, подмножество, операции над множествами; умение оперировать понятиями: граф, связный граф, дерево, цикл, применять их при решении задач; умение использовать графическое представление множеств для описания реальных процессов и явлений, при решении задач из других учебных предметов
2	Умение оперировать понятиями: определение, аксиома, теорема, доказательство; умение распознавать истинные и ложные высказывания, приводить примеры и контрпримеры, строить высказывания и отрицания высказываний
3	Умение оперировать понятиями: натуральное число, простое и составное число, делимость натуральных чисел, признаки делимости, целое число, модуль числа, обыкновенная дробь и десятичная дробь, стандартный вид числа, рациональное число, иррациональное число, арифметический квадратный корень; умение выполнять действия с числами, сравнивать и упорядочивать числа, представлять числа на координатной прямой, округлять числа; умение делать прикидку и оценку результата вычислений
4	Умение оперировать понятиями: степень с целым показателем, арифметический квадратный корень, многочлен, алгебраическая дробь, тождество; знакомство с корнем натуральной степени больше единицы; умение выполнять расчёты по формулам, преобразования целых, дробно-рациональных выражений и выражений с корнями, разложение многочлена на множители, в том числе с использованием формул разности квадратов и квадрата суммы и разности

5	<p>Умение оперировать понятиями: числовое равенство, уравнение с одной переменной, числовое неравенство, неравенство с переменной; умение решать линейные и квадратные уравнения, дробно-рациональные уравнения с одной переменной, системы двух линейных уравнений, линейные неравенства и их системы, квадратные и дробно-рациональные неравенства с одной переменной, в том числе при решении задач из других предметов и практических задач; умение использовать координатную прямую и координатную плоскость для изображения решений уравнений, неравенств и систем</p>
6	<p>Умение оперировать понятиями: функция, график функции, нули функции, промежутки знакопостоянства, промежутки возрастания, убывания, наибольшее и наименьшее значения функции; умение оперировать понятиями: прямая пропорциональность, линейная функция, квадратичная функция, обратная пропорциональность, парабола, гипербола; умение строить графики функций, использовать графики для определения свойств процессов и зависимостей, для решения задач из других учебных предметов и реальной жизни; умение выражать формулами зависимости между величинами</p>
7	<p>Умение оперировать понятиями: последовательность, арифметическая и геометрическая прогрессии; умение использовать свойства последовательностей, формулы суммы и общего члена при решении задач, в том числе задач из других учебных предметов и реальной жизни</p>
8	<p>Умение решать задачи разных типов (в том числе на проценты, доли и части, движение, работу, цену товаров и стоимость покупок и услуг, налоги, задачи из области управления личными и семейными финансами); умение составлять выражения, уравнения, неравенства и системы по условию задачи, исследовать полученное решение и оценивать правдоподобность полученных результатов</p>
9	<p>Умение оперировать понятиями: фигура, точка, отрезок, прямая, луч, ломаная, угол, многоугольник, треугольник, равнобедренный и равносторонний треугольники,</p>



	<p>прямоугольный треугольник, медиана, биссектриса и высота треугольника, четырёхугольник, параллелограмм, ромб, прямоугольник, квадрат, трапеция; окружность, круг, касательная; знакомство с пространственными фигурами; умение решать задачи, в том числе из повседневной жизни, нахождение геометрических величин с применением изученных свойств фигур и фактов</p>
10	<p>Умение оперировать понятиями: равенство фигур, равенство треугольников; параллельность и перпендикулярность прямых, угол между прямыми, перпендикуляр, наклонная, проекция, подобие фигур, подобные треугольники, симметрия относительно точки и прямой; умение распознавать равенство, симметрию и подобие фигур, параллельность и перпендикулярность прямых в окружающем мире</p>
11	<p>Умение оперировать понятиями: длина, расстояние, угол (величина угла, синус и косинус угла треугольника), площадь; умение оценивать размеры предметов и объектов в окружающем мире; умение применять формулы периметра и площади многоугольников, длины окружности и площади круга, объема прямоугольного параллелепипеда; умение применять признаки равенства треугольников, теорему о сумме углов треугольника, теорему Пифагора, тригонометрические соотношения для вычисления длин, расстояний, площадей</p>
12	<p>Умение изображать плоские фигуры и их комбинации, пространственные фигуры от руки, с помощью чертёжных инструментов и электронных средств по текстовому или символьному описанию</p>
13	<p>Умение оперировать понятиями: прямоугольная система координат; координаты точки, вектор, сумма векторов, произведение вектора на число, скалярное произведение векторов; умение использовать векторы и координаты для представления данных и решения задач, в том числе из других учебных предметов и реальной жизни</p>
14	<p>Умение оперировать понятиями: столбиковые и круговые диаграммы, таблицы, среднее арифметическое, медиана,</p>

	<p>наибольшее и наименьшее значения, размах числового набора; умение извлекать, интерпретировать и преобразовывать информацию, представленную в таблицах и на диаграммах, отражающую свойства и характеристики реальных процессов и явлений; умение распознавать изменчивые величины в окружающем мире</p>
15	<p>Умение оперировать понятиями: случайный опыт (случайный эксперимент), элементарное событие (элементарный исход) случайного опыта, случайное событие, вероятность события; умение находить вероятности случайных событий в опытах с равновероятными элементарными событиями; умение решать задачи методом организованного перебора и с использованием правила умножения; умение оценивать вероятности реальных событий и явлений, понимать роль практически достоверных и маловероятных событий в окружающем мире и в жизни; знакомство с понятием независимых событий; знакомство с законом больших чисел и его ролью в массовых явлениях</p>
16	<p>Умение выбирать подходящий изученный метод для решения задачи, приводить примеры математических закономерностей в природе и жизни, распознавать проявление законов математики в искусстве, описывать отдельные выдающиеся результаты, полученные в ходе развития математики как науки, приводить примеры математических открытий и их авторов в отечественной и всемирной истории</p>

## ПЕРЕЧЕНЬ ЭЛЕМЕНТОВ СОДЕРЖАНИЯ, ПРОВЕРЯЕМЫХ НА ОГЭ ПО МАТЕМАТИКЕ

Код	Проверяемый элемент содержания
1	Числа и вычисления
1.1	Натуральные и целые числа. Признаки делимости целых чисел
1.2	Обыкновенные и десятичные дроби, проценты, бесконечные периодические дроби
1.3	Рациональные числа. Арифметические операции с рациональными числами
1.4	Действительные числа. Арифметические операции с действительными числами
1.5	Приближённые вычисления, правила округления, прикидка и оценка результата вычислений
2	Алгебраические выражения
2.1	Буквенные выражения (выражения с переменными)
2.2	Степень с целым показателем. Степень с рациональным показателем. Свойства степени
2.3	Многочлены
2.4	Алгебраическая дробь
2.5	Арифметический корень натуральной степени. Действия с арифметическими корнями натуральной степени
3	Уравнения и неравенства
3.1	Целые и дробно-рациональные уравнения. Системы и совокупности уравнений
3.2	Целые и дробно-рациональные неравенства. Системы и совокупности неравенств
3.3	Решение текстовых задач
4	Числовые последовательности
4.1	Последовательности, способы задания последовательностей

4.2	Арифметическая и геометрическая прогрессии. Формула сложных процентов
5	Функции
5.1.	Функция, способы задания функции. График функции. Область определения и множество значений функции. Нули функции. Промежутки знакопостоянства. Промежутки монотонности функции. Максимумы и минимумы функции. Наибольшее и наименьшее значение функции на промежутке
6	Координаты на прямой и плоскости
6.1	Координатная прямая
6.2	Декартовы координаты на плоскости
7	Геометрия
7.1	Геометрические фигуры и их свойства
7.2	Треугольник
7.3	Многоугольники
7.4	Окружность и круг
7.5	Измерение геометрических величин
7.6	Векторы на плоскости
8	Вероятность и статистика
8.1	Описательная статистика
8.2	Вероятность
8.3	Комбинаторика
8.4	Множества
8.5	Графы

## **УЧЕБНО-МЕТОДИЧЕСКОЕ ОБЕСПЕЧЕНИЕ ОБРАЗОВАТЕЛЬНОГО ПРОЦЕССА**

### **ОБЯЗАТЕЛЬНЫЕ УЧЕБНЫЕ МАТЕРИАЛЫ ДЛЯ УЧЕНИКА**

Геометрия, 7-9 классы/ Атанасян Л.С., Бутузов В.Ф., Кадомцев С.Б. и другие, Акционерное общество «Издательство «Просвещение»

### **МЕТОДИЧЕСКИЕ МАТЕРИАЛЫ ДЛЯ УЧИТЕЛЯ**

Математика. Геометрия : 7—9-е классы : базовый уровень : методическое пособие к предметной линии учебников по геометрии Л. С. Атанасяна, В. Ф. Бутузова, С. Б., Кадомцева и др./ — 2-е изд., стер. — Москва : Просвещение, 2023. — 48 с.

Геометрия: 7 класс:самостоятельные и контрольные работы: учебное пособие/ М.А. Иченская. - Москва: Просвещение, 2024

Геометрия: 8 класс:самостоятельные и контрольные работы: учебное пособие/ М.А. Иченская. - Москва: Просвещение, 2024

### **ЦИФРОВЫЕ ОБРАЗОВАТЕЛЬНЫЕ РЕСУРСЫ И РЕСУРСЫ СЕТИ**

#### **ИНТЕРНЕТ**

<https://lesson.edu.ru/>  
<https://infourok.ru/>  
<https://fg.reshe.edu.ru>

### **Система оценки достижения обучающимися планируемых результатов освоения образовательных программ на уровнях основного общего и среднего общего образования**

---

#### **Учебный предмет «математика»**

Оценивание предметных результатов обучения направлено на:

- определение соответствия уровня сформированности у обучающегося результатов обучения требованиям ФГОС СОО и ФОП СОО;
- выявление дефицитов предметной подготовки (пробелов в знаниях, умениях, навыках);
- установление затруднений обучающихся в достижении запланированного уровня обучения и их причин.

При выставлении текущей оценки, представляющей собой результат процедуры оценивания индивидуального продвижения обучающихся в освоении математического содержания, целесообразно ориентироваться на следующие рекомендации.

По каждой теме учебных курсов «Алгебра и начала математического анализа», «Геометрия», «Вероятность и статистика» определены планируемые результаты обучения.

Надо иметь в виду, что оценка достижения планируемых результатов распадается на две связанные друг с другом составляющие:

- 1) оценка процесса формирования планируемых результатов, реализуемая в форме текущего, в том числе и тематического, оценивания;
- 2) оценка результата формирования планируемых результатов, реализуемая в форме итогового контроля.

При этом следует учесть, что при обучении математике в процессе оценивания промежуточных результатов обучения используются разные виды демонстрации учебных достижений: устные ответы обучающихся и их письменные работы, в том числе в форме тестирования.

Обучение математике предполагает сформированность нескольких групп результатов:

освоение теоретических компонентов математического содержания: знание и умение воспроизводить формулировки определений математических понятий, формулировки теорем и их доказательство;

решение математических задач разного уровня сложности – от простейших до проблемных и поисковых;

решение межпредметных и практико-ориентированных задач.

Диагностика и проверка уровня усвоения теоретических компонентов может быть организована в формате тестирования, устных опросов, частично в форме традиционных проверочных и контрольных работ.

Проверка умения решать математические задачи, как правило, организуется в формате письменных проверочных и контрольных работ.

При оценивании письменных работ и устных ответов целесообразно ориентироваться на несколько отличающиеся показатели.

В соответствии с планируемыми результатами обучения по каждой теме определены итоговые результаты изучения темы, проверяемые элементы содержания темы, требования к демонстрации достижения их сформированности, задания для их демонстрации и, соответственно, критерии оценивания заданий.

В соответствии с *принципом открытости* уже в начале изучения каждой темы обучающиеся должны знать, какие умения относятся к итоговым результатам изучения темы, как будут организованы контрольные процедуры: контрольная работа и/или опрос, какие критерии предъявляются к решению задач и к ответам, как проводится оценивание результатов их деятельности, например, какое наименьшее количество заданий контрольной работы необходимо выполнить, чтобы рассчитывать на получение положительной отметки.

### **Оценка устных ответов**

Одной из важных форм оценивания результатов обучения по математике являются устные ответы обучающихся. Они могут носить локальный, массовый (устный опрос, проведению которого посвящен, возможно, целый урок или его часть), постоянный характер, когда на каждом уроке несколько обучающихся отвечают устно на теоретические вопросы: опросы по терминологии и формулировкам определения, доказательствам теорем, решению задач.

При оценивании **устных** ответов обучающихся целесообразно ориентироваться на следующие рекомендации.

При выставлении отметки учитываются **все** требования к ответу.

*Ответ оценивается **отметкой «5»**, если обучающийся:*

полностью раскрыл содержание материала в объеме, предусмотренном программой и учебником;

изложил материал грамотным языком в определенной логической последовательности, точно, без ошибок используя математическую терминологию и символику;

правильно выполнил рисунки, чертежи, графики, необходимые для изложения теории или решения задачи;

продемонстрировал умение иллюстрировать теоретические положения конкретными примерами, применять их при выполнении практического задания (если такое предусмотрено);

продемонстрировал усвоение ранее изученных сопутствующих вопросов, сформированность и устойчивость использованных при ответе умений и навыков;

отвечал самостоятельно, без наводящих вопросов учителя, *демонстрируя сформированность монологической речи и полное владение содержанием.*

Возможны 1–2 неточности при освещении второстепенных вопросов или недочетов в решении задач (если такие предусмотрены), которые ученик легко исправил по замечанию учителя.

*Ответ оценивается **отметкой «4»**, если обучающийся:*

раскрыл содержание материала в объеме, предусмотренном программой и учебником;

изложил материал грамотным языком в определенной логической последовательности;

выполнил рисунки, чертежи, графики, необходимые для изложения теории или решения задачи;

продемонстрировал умение иллюстрировать теоретические положения конкретными примерами, применять их при решении задач (если такие предусмотрены);

продемонстрировал усвоение ранее изученных сопутствующих вопросов, сформированность и устойчивость использованных при ответе умений и навыков;

**но при этом:**



допустил небольшие неточности в формулировке математических утверждений, не исказившие математического содержания ответа, исправленные по замечанию учителя;

допустил ошибки или более 2 неточностей при освещении второстепенных вопросов/недочетов в решении задач (если такие предусмотрены), которые ученик легко исправил по замечанию учителя.

***Отметка «3» за ответ ставится в следующих случаях:***

неполно или непоследовательно раскрыл содержание материала, но показано общее понимание вопроса и продемонстрированы умения, достаточные для дальнейшего усвоения программного материала;

демонстрировал затруднения или допускал ошибки в определении понятий и использовании математической терминологии, символике, чертежах, выкладках, исправленные после нескольких наводящих вопросов учителя;

не справился с применением теории при решении задач, но выполнил задания обязательного уровня сложности по данной теме (если такие предусмотрены).

***Отметка «2» за ответ ставится в следующих случаях:***

не раскрыл основное содержание учебного материала;

обнаружил незнание или непонимание обучающимся большей или наиболее важной части учебного материала;

допустил ошибки в определении понятий, при использовании математической терминологии, в рисунках, чертежах или графиках, в выкладках, которые не исправлены после нескольких наводящих вопросов учителя;

обнаружил незнание и непонимание изучаемого материала или не смог ответить ни на один из поставленных вопросов по изучаемому материалу.

### **Оценка письменных работ**

При составлении содержания письменных работ, в частности тематических контрольных работ, необходимо соблюдать *принцип дифференцируемости по уровням подготовки*: важно включать в работу задания, относящиеся к базовому уровню подготовки, выполнение которых обязательно для всех обучающихся, и задания повышенных уровней, которые дают возможность реализоваться обучающимся, проявляющим к математике интерес

и способности. Маркировка заданий по уровням специальными обозначениями сначала в ходе формирования умений, а затем и в контрольной работе ориентирует обучающихся на достижение определенного результата, помогает планировать учение и контролировать выполнение работы.

Кроме того, при составлении тематических контрольных работ и текущих проверочных работ важно ориентироваться на *принцип полноты проверки планируемых результатов*. Часть тематических результатов проверяется отдельными, небольшими по формату проверочными работами.

В конце изучения каждой темы может быть предусмотрено проведение контрольной работы, на которую отводится 1 урок. При этом, если тема небольшая и на ее изучение дается не более одной учебной недели, то контроль достижения соответствующих этой теме планируемых результатов можно перенести и включить в контрольную работу по следующей теме или же ограничиться проведением небольшой проверочной работы в течение 20–25 минут урока. При этом и обучающиеся, и учитель должны получить обратную связь о достижении или недостижении тематических планируемых результатов.

При оценке результата выполнения контрольной или проверочной работы в первую очередь устанавливается наличие или отсутствие у обучающегося базовой математической подготовки, поэтому так важно отдельно оценить выполнение им соответствующих заданий. Как правило, они komponуются в первую часть контрольной работы.

Полезно придерживаться следующего подхода к начислению баллов за выполнение заданий:

за верное выполнение каждого задания первой части обучающемуся начисляется 1 балл;

за выполнение задания второй части начисляются 2 балла, если дано верное решение и приведено обоснование; 1 балл, если логика решения верна, но допущена одна вычислительная ошибка или представленное обоснование не может считаться полным.

При необходимости *критерии могут быть детализованы*, что позволит более точно выявить пробелы, затруднения обучающихся и их причины, что, в свою очередь, позволит спланировать корректирующие процедуры.

Важно также помнить, что содержание, структура контрольной работы и критерии оценивания ее выполнения должны быть разработаны таким образом, чтобы у обучающихся было право на ошибку: для получения отметки «3» не обязательно верно выполнить все задания обязательного уровня, аналогично, для получения отметки «5» не обязательно выполнить все задания контрольной работы.

Рекомендуем следующие критерии для перевода общей суммы начисленных баллов в отметку по пятибалльной шкале:

обучающийся не достиг удовлетворительного (обязательного) уровня подготовки (**отметка «2»**), если он набрал **менее 55%** баллов Части 1 (обязательного уровня);

обучающийся достиг удовлетворительного (обязательного) уровня подготовки (**отметка не ниже «3»**), если он набрал **не менее 55%** баллов Части 1 (обязательного уровня);

обучающийся достиг повышенного уровня (**отметка не ниже «4»**), если он набрал **не менее 65%** общего числа баллов;

обучающийся достиг высокого уровня (**отметка «5»**), если он набрал **не менее 85%** общего числа баллов.

*Отметим, что предлагаемая шкала перевода суммы начисленных баллов в отметку по пятибалльной шкале может быть скорректирована в каждом отдельном случае.*

### **Оценка тестовых заданий**

Тест может использоваться для проведения текущего и тематического контроля. Более целесообразно использовать тестовую форму при выявлении степени усвоения теоретического материала и умения решать задания репродуктивного характера.

При использовании теста как формы контроля могут быть рекомендованы те же критерии для перевода суммы баллов в отметку. Однако при этом следует учитывать, что в зависимости от типа тестовых заданий, включенных в тест, критерии перевода суммы баллов в отметку могут быть скорректированы. Так, при выполнении теста, состоящего только из заданий с выбором одного ответа (самые простые), нижние пороги могут быть увеличены:

не менее 70% – **отметка «3»**;

не менее 80% – **отметка «4»**;

не менее 90% – **отметка «5»**.

Выполняя анализ результатов проверочной или контрольной процедуры, независимо от формы ее проведения, целесообразно фиксировать не только количество выполненных заданий, но и какие именно задания были выполнены как каждым обучающимся, так и классом (группой) в целом.

Применение данного подхода позволяет сделать отметку более информативной и обоснованной, всегда можно проанализировать, из чего складывается общий балл каждого обучающегося, какие задания выполнены полностью, а какие частично. Также при данном подходе реализуется неотъемлемое право каждого обучающегося – «право на ошибку». В целом по группе обучающихся выявляются общие пробелы, требующие коррекции и дополнительной работы.

## ПРИЛОЖЕНИЕ 2

### Контрольно-измерительные материалы по геометрии

7 класс

#### Контрольная работа №1 «Треугольники»

##### СПЕЦИФИКАЦИЯ

1. Назначение контрольной работы – оценить уровень достижения планируемых результатов.
2. Планируемые результаты

##### Обучающийся научится:

Пользоваться признаками равенства треугольников, использовать признаки и свойства равнобедренных треугольников при решении задач.

Проводить логические рассуждения с использованием геометрических теорем.

Пользоваться признаками равенства прямоугольных треугольников, свойством медианы, проведённой к гипотенузе прямоугольного треугольника, в решении геометрических задач.

##### 3. Характеристика структуры и содержания контрольной работы

Каждый вариант контрольной работы содержит 6 заданий, различающихся уровнем сложности.

Задания №1–4 с развернутым ответом.

##### 4. Критерии оценивания контрольной работы

Верное выполненным считается задание, если обоснованно получен верный ответ, присутствуют все шаги решения.

Оценивание каждого задания (таблица 1)

Таблица 1

Задание	№1	№2	№3	№4
Баллы	1	1	3	4

Максимальный балл за выполнение работы составляет – 9. На основе баллов, выставленных за выполнение всех заданий работы, подсчитывается первичный балл, который переводится в отметку по пятибалльной шкале (таблица 2).

Таблица 2

##### Перевод баллов в отметку по пятибалльной шкале

Количество баллов	Рекомендуемая оценка
9	5
7-8	4
4-6	3
Менее 4	2

##### 5. Продолжительность контрольной работы

На выполнение всей диагностической контрольной работы отводится 45 минут.

#### КОДИФИКАТОР ЭЛЕМЕНТОВ СОДЕРЖАНИЯ И ПЛАНИРУЕМЫХ РЕЗУЛЬТАТОВ

##### РАЗДЕЛ 1. Перечень элементов содержания, проверяемых на контрольной работе

Код	Элементы содержания, проверяемые заданиями контрольной работы
6.3	Основные построения с помощью циркуля и линейки. Треугольник. Высота, медиана, биссектриса, их свойства
6.4	Равнобедренный и равносторонний треугольники. Неравенство треугольника
6.5	Свойства и признаки равнобедренного треугольника. Признаки равенства треугольников

6.6	Свойства и признаки параллельных прямых. Сумма углов треугольника. Внешние углы треугольника
6.7	Прямоугольный треугольник. Свойство медианы прямоугольного треугольника, проведённой к гипотенузе. Признаки равенства прямоугольных треугольников. Прямоугольный треугольник с углом в $30^\circ$
6.3	Основные построения с помощью циркуля и линейки. Треугольник. Высота, медиана, биссектриса, их свойства
6.4	Равнобедренный и равносторонний треугольники. Неравенство треугольника

## РАЗДЕЛ 2. Перечень планируемых результатов

<i>Код проверяемого результата</i>	<i>Планируемые результаты, которые проверяются заданиями контрольной работы</i>
6.3	Строить чертежи к геометрическим задачам
6.4	Пользоваться признаками равенства треугольников, использовать признаки и свойства равнобедренных треугольников при решении задач
6.5	Проводить логические рассуждения с использованием геометрических теорем
6.6	Пользоваться признаками равенства прямоугольных треугольников, свойством медианы, проведённой к гипотенузе прямоугольного треугольника, в решении геометрических задач
6.3	Строить чертежи к геометрическим задачам
6.4	Пользоваться признаками равенства треугольников, использовать признаки и свойства равнобедренных треугольников при решении задач
6.5	Проводить логические рассуждения с использованием геометрических теорем
6.6	Пользоваться признаками равенства прямоугольных треугольников, свойством медианы, проведённой к гипотенузе прямоугольного треугольника, в решении геометрических задач
6.3	Строить чертежи к геометрическим задачам

## Вариант I

1. На рисунке 1 отрезки  $AB$  и  $CD$  имеют общую середину  $O$ . Докажите, что  $\angle DAO = \angle CBO$ .

2. Луч  $AD$  – биссектриса угла  $A$ . На сторонах угла  $A$  отмечены точки  $B$  и  $C$  так, что  $\angle ADB = \angle ADC$ . Докажите, что  $AB = AC$ .

3. Начертите равнобедренный треугольник  $ABC$  с основанием  $BC$ . С помощью циркуля и линейки проведите медиану  $BB_1$  к боковой стороне  $AC$ .

4. Укажите верные утверждения:

- А) В равных треугольниках против равных сторон лежат равные углы.
- В) Из точки, не лежащей на прямой, можно провести два перпендикуляра к этой прямой.
- С) Биссектриса угла равнобедренного треугольника, проведенная к основанию этого треугольника, является высотой.
- Д) Если две стороны одного треугольника соответственно равны двум сторонам другого треугольника, то такие треугольники равны.
- Е) Сумма длин трёх сторон треугольника называется периметром треугольника.

## Контрольная работа №2 «Параллельные прямые, сумма углов треугольника» СПЕЦИФИКАЦИЯ

1. Назначение контрольной работы – оценить уровень достижения планируемых результатов.
2. Планируемые результаты

### Обучающийся научится:

Определять параллельность прямых с помощью углов, которые образует с ними секущая. Определять параллельность прямых с помощью равенства расстояний от точек одной прямой до точек другой прямой.

Решать задачи на клетчатой бумаге.

Проводить вычисления и находить числовые и буквенные значения углов в геометрических задачах с использованием суммы углов треугольников и многоугольников, свойств углов, образованных при пересечении двух параллельных прямых секущей. Решать практические задачи на нахождение углов.

### 1. Характеристика структуры и содержания контрольной работы

Каждый вариант контрольной работы содержит 6 заданий, различающихся уровнем сложности. Задания №1–4 с развернутым ответом.

### 2. Критерии оценивания контрольной работы

Верное выполненным считается задание, если обоснованно получен верный ответ, присутствуют все шаги решения.

Оценивание каждого задания (таблица 1)

Таблица 1

Задание	№1	№2	№3	№4
Баллы	1	1	3	4

Максимальный балл за выполнение работы составляет – 9. На основе баллов, выставленных за выполнение всех заданий работы, подсчитывается первичный балл, который переводится в отметку по пятибалльной шкале (таблица 2).

Таблица 2

**Перевод баллов в отметку по пятибалльной шкале**

Количество баллов	Рекомендуемая оценка
9	5
7-8	4
4-6	3
Менее 4	2

**3. Продолжительность контрольной работы**

На выполнение всей диагностической контрольной работы отводится 45 минут.

**КОДИФИКАТОР ЭЛЕМЕНТОВ СОДЕРЖАНИЯ  
И ПЛАНИРУЕМЫХ РЕЗУЛЬТАТОВ**
**РАЗДЕЛ 1. Перечень элементов содержания, проверяемых на контрольной работе**

<i>Код</i>	<i>Элементы содержания, проверяемые заданиями контрольной работы</i>
6.6	Свойства и признаки параллельных прямых. Сумма углов треугольника. Внешние углы треугольника
6.7	Прямоугольный треугольник. Свойство медианы прямоугольного треугольника, проведённой к гипотенузе. Признаки равенства прямоугольных треугольников. Прямоугольный треугольник с углом в $30^\circ$
6.8	Неравенства в геометрии: неравенство треугольника, неравенство о длине ломаной, теорема о большем угле и большей стороне треугольника. Перпендикуляр и наклонная

**РАЗДЕЛ 2. Перечень планируемых результатов**

<i>Код проверяемого результата</i>	<i>Планируемые результаты, которые проверяются заданиями контрольной работы</i>
6.7	Определять параллельность прямых с помощью углов, которые образует с ними секущая. Определять параллельность прямых с помощью равенства расстояний от точек одной прямой до точек другой прямой
6.8	Решать задачи на клетчатой бумаге
6.9	Проводить вычисления и находить числовые и буквенные значения углов в геометрических задачах с использованием суммы углов треугольников и многоугольников, свойств углов, образованных при пересечении двух параллельных прямых секущей. Решать практические задачи на нахождение углов



## Вариант I

1. Отрезки  $EF$  и  $PD$  пересекаются в их середине  $M$ . Докажите, что  $PE \parallel DF$ .
2. Отрезок  $DM$  – биссектриса треугольника  $CDE$ . Через точку  $M$  проведена прямая, параллельная стороне  $CD$  и пересекающая сторону  $DE$  в точке  $N$ . Найдите углы треугольника  $DMN$ , если  $\angle CDE = 68^\circ$ .
3. Отрезок  $DM$  — биссектриса  $\triangle CDE$ . Через точку  $M$  проведена прямая, пересекающая сторону  $DE$  в точке  $N$  так, что  $DN = MN$ . Найдите углы  $\triangle DMN$ , если  $\angle CDE = 74^\circ$ .
4. Прямая  $EK$  является секущей для прямых  $CD$  и  $MN$  ( $E \in CD$ ,  $K \in MN$ ).  $\angle DEK$  равен  $65^\circ$ . При каком значении угла  $NKE$  прямые  $CD$  и  $MN$  могут быть параллельными?

## Контрольная работа №3 «Параллельные прямые, сумма углов треугольника» СПЕЦИФИКАЦИЯ

3. Назначение контрольной работы – оценить уровень достижения планируемых результатов.
4. Планируемые результаты

### Обучающийся научится:

Формулировать определения окружности и круга, хорды и диаметра окружности, пользоваться их свойствами. Уметь применять эти свойства при решении задач.

Владеть понятием описанной около треугольника окружности, уметь находить её центр. Пользоваться фактами о том, что биссектрисы углов треугольника пересекаются в одной точке, и о том, что серединные перпендикуляры к сторонам треугольника пересекаются в одной точке.

Владеть понятием касательной к окружности, пользоваться теоремой о перпендикулярности касательной и радиуса, проведённого к точке касания.

Пользоваться простейшими геометрическими неравенствами, понимать их практический смысл.

Проводить основные геометрические построения с помощью циркуля и линейки.

### 4. Характеристика структуры и содержания контрольной работы

Каждый вариант контрольной работы содержит 6 заданий, различающихся уровнем сложности. Задания №1–5 с развернутым ответом.

### 5. Критерии оценивания контрольной работы

Верное выполненным считается задание, если обоснованно получен верный ответ, присутствуют все шаги решения.

Оценивание каждого задания (таблица 1)

Таблица 1

Задание	№1	№2	№3	№4	№5
Баллы	2	2	3	4	2

Максимальный балл за выполнение работы составляет – 9. На основе баллов, выставленных за выполнение всех заданий работы, подсчитывается первичный балл, который переводится в отметку по пятибалльной шкале (таблица 2).

Таблица 2

Перевод баллов в отметку по пятибалльной шкале

Количество баллов	Рекомендуемая оценка
13-14	5
10-12	4
7-9	3
Менее 7	2

### 6. Продолжительность контрольной работы

На выполнение всей диагностической контрольной работы отводится 45 минут.

## КОДИФИКАТОР ЭЛЕМЕНТОВ СОДЕРЖАНИЯ И ПЛАНИРУЕМЫХ РЕЗУЛЬТАТОВ

**РАЗДЕЛ 1. Перечень элементов содержания, проверяемых на контрольной работе**

<i>Код</i>	<i>Элементы содержания, проверяемые заданиями контрольной работы</i>
6.10	Окружность и круг, хорда и диаметр, их свойства. Взаимное расположение окружности и прямой. Касательная и секущая к окружности
6.11	Окружность, вписанная в угол. Вписанная и описанная окружности треугольника

**РАЗДЕЛ 2. Перечень планируемых результатов**

<i>Код проверяемого результата</i>	<i>Планируемые результаты, которые проверяются заданиями контрольной работы</i>
6.11	Формулировать определения окружности и круга, хорды и диаметра окружности, пользоваться их свойствами. Уметь применять эти свойства при решении задач
6.12	Владеть понятием описанной около треугольника окружности, уметь находить её центр. Пользоваться фактами о том, что биссектрисы углов треугольника пересекаются в одной точке, и о том, что серединные перпендикуляры к сторонам треугольника пересекаются в одной точке
6.13	Владеть понятием касательной к окружности, пользоваться теоремой о перпендикулярности касательной и радиуса, проведённого к точке касания
6.14	Пользоваться простейшими геометрическими неравенствами, понимать их практический смысл
6.15	Проводить основные геометрические построения с помощью циркуля и линейки

**Вариант 1**

1. На рисунке 62 точка  $O$  — центр окружности,  $\angle ABC = 28^\circ$ .  
Найдите угол  $AOC$ .
2. К окружности с центром  $O$  проведена касательная  $CD$  ( $D$  — точка касания). Найдите отрезок  $OC$ , если радиус окружности равен 6 см и  $\angle DCO = 30^\circ$ .
3. В окружности с центром  $O$  проведены диаметр  $AB$  и хорды  $AC$  и  $AD$  так, что  $\angle BAC = \angle BAD$  (рис. 63). Докажите, что  $AC = AD$ .
4. Постройте равнобедренный треугольник по боковой стороне и медиане, проведённой к ней.
5. Даны окружность и две точки вне её. Найдите на окружности точку, равноудалённую от этих двух точек. Сколько решений может иметь задача?

Prob. 62



Prob. 63



## 8 класс

### Контрольная работа №1 «Четырехугольники»

#### СПЕЦИФИКАЦИЯ

**5. Назначение контрольной работы** – оценить уровень достижения планируемых результатов.

**6. Планируемые результаты**

#### Обучающийся научится:

Распознавать основные виды четырехугольников, их элементы, пользоваться их свойствами при решении геометрических задач..

**7. Характеристика структуры и содержания контрольной работы**

Каждый вариант контрольной работы содержит 6 заданий, различающихся уровнем сложности.

Задания №1–5 с развернутым ответом.

**8. Критерии оценивания контрольной работы**

Верное выполненным считается задание, если обоснованно получен верный ответ, присутствуют все шаги решения.

Оценивание каждого задания (таблица 1)

Таблица 1

Задание	№1	№2	№3	№4	№5
Баллы	3	1	1	2	3

Максимальный балл за выполнение работы составляет – 9. На основе баллов, выставленных за выполнение всех заданий работы, подсчитывается первичный балл, который переводится в отметку по пятибалльной шкале (таблица 2).

Таблица 2

**Перевод баллов в отметку по пятибалльной шкале**

Количество баллов	Рекомендуемая оценка
9-10	5
7-8	4
5-6	3
Менее 5	2

**9. Продолжительность контрольной работы**

На выполнение всей диагностической контрольной работы отводится 45 минут.

#### КОДИФИКАТОР ЭЛЕМЕНТОВ СОДЕРЖАНИЯ И ПЛАНИРУЕМЫХ РЕЗУЛЬТАТОВ

##### РАЗДЕЛ 1. Перечень элементов содержания, проверяемых на контрольной работе

Код	Элементы содержания, проверяемые заданиями контрольной работы
6.1	Четырёхугольники. Параллелограмм, его признаки и свойства
6.2	Прямоугольник, ромб, квадрат, их признаки и свойства
6.3	Трапеция, равнобокая трапеция, её свойства и признаки. Прямоугольная трапеция
6.4	Метод удвоения медианы. Центральная симметрия. Теорема Фалеса и теорема о пропорциональных отрезках

##### РАЗДЕЛ 2. Перечень планируемых результатов

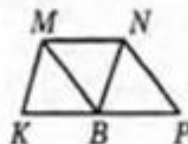
Код проверяемого результата	Планируемые результаты, которые проверяются заданиями контрольной работы
-----------------------------	--

## ВАРИАНТ 1

## Часть 1

Запишите номера верных ответов к заданию 1.

1°. На рисунке  $KMNP$  — трапеция,  $BN \parallel KM$ ,  $BM \parallel NP$ ,  $MN = NP$ ,  $MN \neq KM$ . Укажите верные утверждения:



- 1)  $KMNB$  — параллелограмм
- 2)  $KMNB$  — ромб
- 3)  $MNPB$  — ромб
- 4)  $\angle KBM = \angle MBN$
- 5)  $\angle MBN = \angle NBP$

## Часть 2

Запишите ответ к заданиям 2 и 3.

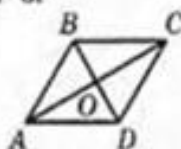
2°. Диагонали прямоугольника  $ABCD$  пересекаются в точке  $O$ . Найдите периметр треугольника  $AOD$ , если  $AB = 9$ ,  $BC = 12$ ,  $BD = 15$ .

3°. Одна из сторон параллелограмма в 3 раза больше другой. Найдите длину меньшей стороны, если периметр параллелограмма равен 32 см.

## Часть 3

Запишите обоснованное решение задач 4–6.

4°. На рисунке  $ABCD$  — ромб,  $\angle ABC = 140^\circ$ . Найдите углы треугольника  $COD$ .



5. Начертите произвольный треугольник  $DEF$ , на стороне  $DE$  отметьте точку  $A$ , не являющуюся ее серединой. Постройте фигуру, симметричную треугольнику  $DEF$  относительно точки  $A$ .

6. В параллелограмме  $BCDE$  биссектриса угла  $B$  пересекает сторону  $DE$  в точке  $K$ , причем  $DK = 4$ ,  $EK = 12$ . Найдите периметр параллелограмма.

## Контрольная работа №2 «Подобные треугольники»

### СПЕЦИФИКАЦИЯ

**7. Назначение контрольной работы** – оценить уровень достижения планируемых результатов.

**8. Планируемые результаты**

#### Обучающийся научится:

Применять свойства точки пересечения медиан треугольника (центра масс) в решении задач.

Владеть понятием средней линии треугольника и трапеции, применять их свойства при решении геометрических задач. Пользоваться теоремой Фалеса и теоремой о пропорциональных отрезках, применять их для решения практических задач.

Применять признаки подобия треугольников в решении геометрических задач.

#### 10. Характеристика структуры и содержания контрольной работы

Каждый вариант контрольной работы содержит 6 заданий, различающихся уровнем сложности.

Задания №1–5 с развернутым ответом.

#### 11. Критерии оценивания контрольной работы

Верное выполненным считается задание, если обоснованно получен верный ответ, присутствуют все шаги решения.

Оценивание каждого задания (таблица 1)

Таблица 1

Задание	№1	№2	№3	№4	№5
Баллы	1	1	2	2	3

Максимальный балл за выполнение работы составляет – 9. На основе баллов, выставленных за выполнение всех заданий работы, подсчитывается первичный балл, который переводится в отметку по пятибалльной шкале (таблица 2).

Таблица 2

#### Перевод баллов в отметку по пятибалльной шкале

Количество баллов	Рекомендуемая оценка
8-9	5
6-7	4
4-5	3
Менее 4	2

#### 12. Продолжительность контрольной работы

На выполнение всей диагностической контрольной работы отводится 45 минут.

### КОДИФИКАТОР ЭЛЕМЕНТОВ СОДЕРЖАНИЯ И ПЛАНИРУЕМЫХ РЕЗУЛЬТАТОВ

#### РАЗДЕЛ 1. Перечень элементов содержания, проверяемых на контрольной работе

Код	Элементы содержания, проверяемые заданиями контрольной работы
6.5	Средние линии треугольника и трапеции. Центр масс треугольника
6.6	Подобие треугольников, коэффициент подобия. Признаки подобия треугольников. Применение подобия при решении практических задач

#### РАЗДЕЛ 2. Перечень планируемых результатов

Код проверяемого результата	Планируемые результаты, которые проверяются заданиями контрольной работы
-----------------------------	--

6.3	Владеть понятием средней линии треугольника и трапеции, применять их свойства при решении геометрических задач. Пользоваться теоремой Фалеса и теоремой о пропорциональных отрезках, применять их для решения практических задач
6.4	Применять признаки подобия треугольников в решении геометрических задач

## ВАРИАНТ 1

### Часть 1

Запишите номера верных ответов к заданиям 1 и 2.

1°. В прямоугольнике  $ABCD$  угол  $ACB$  равен  $\beta$ , диагональ равна 12. Найдите сторону  $AB$ .

- 1)  $12 \cos \beta$     2)  $12 \sin \beta$     3)  $12 \operatorname{tg} \beta$     4)  $\frac{12}{\sin \beta}$

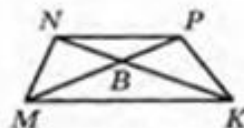
2°. В треугольнике  $BCD$  угол  $C$  — прямой,  $BD = 13$  м,  $BC = 12$  м. Найдите длину средней линии  $MK$ , если  $M \in BD$ ,  $K \in BC$ .

- 1) 5                      2) 6                      3) 6,5                      4) 2,5

### Часть 2

Запишите ответ к заданиям 3 и 4.

3°. Найдите длину отрезка  $MB$ , если в изображенной на рисунке трапеции  $MNPK$  известно:  $MK = 24$ ,  $NP = 18$ ,  $BP = 12$ .

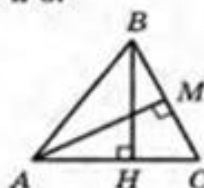


4°. В равнобедренном треугольнике основание равно 20, а угол между боковыми сторонами равен  $120^\circ$ . Найдите высоту, проведенную к основанию.

### Часть 3

Запишите обоснованное решение задач 5 и 6.

5. На рисунке отрезки  $AM$  и  $BH$  являются высотами треугольника  $ABC$ . Докажите, что треугольники  $CBH$  и  $CAH$  подобны.



6. В прямоугольном треугольнике  $BCD$  из точки  $M$ , лежащей на гипотенузе  $BC$ , опущен перпендикуляр  $MN$  на катет  $BD$ . Найдите синус угла  $B$ , если  $MN = 12$ ,  $CD = 18$ ,  $MC = 8$ .

### Контрольная работа №3 «Площадь»

#### СПЕЦИФИКАЦИЯ

**9. Назначение контрольной работы** – оценить уровень достижения планируемых результатов.

**10. Планируемые результаты**

#### Обучающийся научится:

Строить математическую модель в практических задачах, самостоятельно делать чертёж и находить соответствующие длины.

Вычислять (различными способами) площадь треугольника и площади многоугольных фигур (пользуясь, где необходимо, калькулятором). Применять полученные умения в практических задачах.

#### 13. Характеристика структуры и содержания контрольной работы

Каждый вариант контрольной работы содержит 6 заданий, различающихся уровнем сложности. Задания №1–5 с развернутым ответом.

#### 14. Критерии оценивания контрольной работы

Верное выполненным считается задание, если обоснованно получен верный ответ, присутствуют все шаги решения.

Оценивание каждого задания (таблица 1)

Таблица 1

Задание	№1	№2	№3	№4	№5
Баллы	1	2	2	3	3

Максимальный балл за выполнение работы составляет – 9. На основе баллов, выставленных за выполнение всех заданий работы, подсчитывается первичный балл, который переводится в отметку по пятибалльной шкале (таблица 2).

Таблица 2

**Перевод баллов в отметку по пятибалльной шкале**

Количество баллов	Рекомендуемая оценка
10-11	5
8-9	4
5-7	3
Менее 5	2

#### 15. Продолжительность контрольной работы

На выполнение всей диагностической контрольной работы отводится 45 минут.

#### КОДИФИКАТОР ЭЛЕМЕНТОВ СОДЕРЖАНИЯ И ПЛАНИРУЕМЫХ РЕЗУЛЬТАТОВ

##### РАЗДЕЛ 1. Перечень элементов содержания, проверяемых на контрольной работе

Код	Элементы содержания, проверяемые заданиями контрольной работы
6.7	Формулы для площади треугольника, параллелограмма, ромба и трапеции
6.8	Свойства площадей геометрических фигур. Отношение площадей подобных фигур
6.9	Вычисление площадей треугольников и многоугольников на клетчатой бумаге

##### РАЗДЕЛ 2. Перечень планируемых результатов

Код проверяемого результата	Планируемые результаты, которые проверяются заданиями контрольной работы
-----------------------------	--



6.5	Строить математическую модель в практических задачах, самостоятельно делать чертёж и находить соответствующие длины
6.7	Вычислять (различными способами) площадь треугольника и площади многоугольных фигур (пользуясь, где необходимо, калькулятором). Применять полученные умения в практических задачах

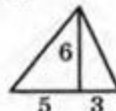
### ВАРИАНТ 1

#### Часть 1

Запишите номера верных ответов к заданию 1.

1°. Используя данные, указанные на рисунке, найдите площадь треугольника.

- 1) 24            3) 14  
2) 48            4) 30



#### Часть 2

Запишите ответ к заданию 2.

2°. Стороны прямоугольника 5 см и 12 см. Чему равна диагональ?

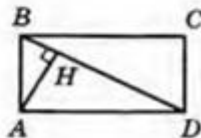
#### Часть 3

Запишите обоснованное решение задач 3–5.

3°. Боковая сторона равнобедренного треугольника равна 15 см, а высота, проведенная к основанию, 9 см. Найдите основание треугольника.

4. Найдите площадь равнобедренной трапеции, если ее основания равны 5 см и 17 см, а боковая сторона равна 10 см.

5. На рисунке  $ABCD$  — прямоугольник,  $AH \perp BD$ , сторона  $AB$  в 3 раза меньше стороны  $BC$ . Найдите  $AH$ , если  $BD = 20$ .



### Контрольная работа №3 «Площадь»

#### СПЕЦИФИКАЦИЯ

**11. Назначение контрольной работы** – оценить уровень достижения планируемых результатов.

**12. Планируемые результаты**

#### Обучающийся научится:

Пользоваться теоремой Пифагора для решения геометрических и практических задач. Строить математическую модель в практических задачах, самостоятельно делать чертёж и находить соответствующие длины.

Владеть понятиями синуса, косинуса и тангенса острого угла прямоугольного треугольника. Пользоваться этими понятиями для решения практических задач.

Вычислять (различными способами) площадь треугольника и площади многоугольных фигур (пользуясь, где необходимо, калькулятором). Применять полученные умения в практических задачах.

#### 16. Характеристика структуры и содержания контрольной работы

Каждый вариант контрольной работы содержит 6 заданий, различающихся уровнем сложности.

Задания №1–6 с развернутым ответом.

#### 17. Критерии оценивания контрольной работы

Верное выполненным считается задание, если обоснованно получен верный ответ, присутствуют все шаги решения.

Оценивание каждого задания (таблица 1)

Таблица 1

Задание	№1	№2	№3	№4	№5	№6
Баллы	2	2	3	3	3	4

Максимальный балл за выполнение работы составляет – 9. На основе баллов, выставленных за выполнение всех заданий работы, подсчитывается первичный балл, который переводится в отметку по пятибалльной шкале (таблица 2).

Таблица 2

#### Перевод баллов в отметку по пятибалльной шкале

Количество баллов	Рекомендуемая оценка
15-17	5
13-14	4
8-12	3
Менее 8	2

#### 18. Продолжительность контрольной работы

На выполнение всей диагностической контрольной работы отводится 45 минут.

#### КОДИФИКАТОР ЭЛЕМЕНТОВ СОДЕРЖАНИЯ И ПЛАНИРУЕМЫХ РЕЗУЛЬТАТОВ

##### РАЗДЕЛ 1. Перечень элементов содержания, проверяемых на контрольной работе

Код	Элементы содержания, проверяемые заданиями контрольной работы
6.10	Теорема Пифагора. Применение теоремы Пифагора при решении практических задач
6.11	Синус, косинус, тангенс острого угла прямоугольного треугольника. Основное тригонометрическое тождество. Тригонометрические функции углов в $30^\circ$ , $45^\circ$ и $60^\circ$

##### РАЗДЕЛ 2. Перечень планируемых результатов

Код проверяемого	Планируемые результаты, которые проверяются заданиями контрольной работы
------------------	--

результата	
6.5	Пользоваться теоремой Пифагора для решения геометрических и практических задач. Строить математическую модель в практических задачах, самостоятельно делать чертёж и находить соответствующие длины
6.6	Владеть понятиями синуса, косинуса и тангенса острого угла прямоугольного треугольника. Пользоваться этими понятиями для решения практических задач

1. Высота прямоугольного треугольника, проведённая к гипотенузе, делит её на отрезки длиной 9 см и 16 см. Найдите меньший катет треугольника.
2. В прямоугольном треугольнике гипотенуза равна 13 см, а один из катетов — 12 см. Найдите периметр треугольника.
3. Диагонали ромба равны 12 см и 16 см. Найдите сторону ромба.
4. Высота  $BM$  равнобедренного треугольника  $ABC$  ( $AB = AC$ ) делит сторону  $AC$  на отрезки  $AM = 15$  см и  $CM = 2$  см. Найдите основание треугольника  $ABC$ .
5. Из точки к прямой проведены две наклонные, проекции которых на прямую равны 9 см и 16 см. Найдите расстояние от точки до прямой, если одна из наклонных на 5 см больше другой.
6. Окружность, вписанная в прямоугольную трапецию, делит точкой касания большую боковую сторону на отрезки длиной 4 см и 25 см. Найдите высоту трапеции.

#### Контрольная работа №4 «Углы в окружности. Вписанные и описанные четырехугольники»

##### СПЕЦИФИКАЦИЯ

13. Назначение контрольной работы – оценить уровень достижения планируемых результатов.

14. Планируемые результаты

##### Обучающийся научится:

Владеть понятиями вписанного и центрального угла, использовать теоремы о вписанных углах, углах между хордами (секущими) и угле между касательной и хордой при решении геометрических задач.

Владеть понятием описанного четырёхугольника, применять свойства описанного четырёхугольника при решении задач.

Применять полученные знания на практике – строить математические модели для задач реальной жизни и проводить соответствующие вычисления с применением подобия и тригонометрии (пользуясь, где необходимо, калькулятором)

### 19. Характеристика структуры и содержания контрольной работы

Каждый вариант контрольной работы содержит 6 заданий, различающихся уровнем сложности. Задания №1–6 с развернутым ответом.

### 20. Критерии оценивания контрольной работы

Верное выполненным считается задание, если обоснованно получен верный ответ, присутствуют все шаги решения.

Оценивание каждого задания (таблица 1)

Таблица 1

Задание	№1	№2	№3	№4	№5
Баллы	1	1	2	2	3

Максимальный балл за выполнение работы составляет – 9. На основе баллов, выставленных за выполнение всех заданий работы, подсчитывается первичный балл, который переводится в отметку по пятибалльной шкале (таблица 2).

Таблица 2

#### Перевод баллов в отметку по пятибалльной шкале

Количество баллов	Рекомендуемая оценка
8-9	5
6-7	4
4-5	3
Менее 4	2

### 21. Продолжительность контрольной работы

На выполнение всей диагностической контрольной работы отводится 45 минут.

## КОДИФИКАТОР ЭЛЕМЕНТОВ СОДЕРЖАНИЯ И ПЛАНИРУЕМЫХ РЕЗУЛЬТАТОВ

### РАЗДЕЛ 1. Перечень элементов содержания, проверяемых на контрольной работе

Код	Элементы содержания, проверяемые заданиями контрольной работы
6.12	Вписанные и центральные углы, угол между касательной и хордой. Углы между хордами и секущими
6.13	Вписанные и описанные четырёхугольники
6.14	Взаимное расположение двух окружностей. Касание окружностей. Общие касательные к двум окружностям

### РАЗДЕЛ 2. Перечень планируемых результатов

Код проверяемого результата	Планируемые результаты, которые проверяются заданиями контрольной работы
6.8	Владеть понятиями вписанного и центрального угла, использовать теоремы о вписанных углах, углах между хордами (секущими) и угле между касательной и хордой при решении геометрических задач
6.9	Владеть понятием описанного четырёхугольника, применять свойства описанного четырёхугольника при решении задач

6.10	Применять полученные знания на практике – строить математические модели для задач реальной жизни и проводить соответствующие вычисления с применением подобия и тригонометрии (пользуясь, где необходимо, калькулятором)
------	--

### ВАРИАНТ 1

#### Часть 1

Запишите номера верных ответов к заданиям 1 и 2.

1°. К окружности с центром  $O$  проведены касательные  $CA$  и  $CB$  ( $A$  и  $B$  — точки касания). Найдите  $\angle AOC$ , если  $\angle ACB = 50^\circ$ .

- 1)  $25^\circ$  2)  $50^\circ$  3)  $40^\circ$  4)  $65^\circ$

2°. На рисунке  $\angle C = 30^\circ$ ,  $\angle AEC = 110^\circ$ . Найдите  $\angle CBD$ .

- 1)  $30^\circ$  2)  $40^\circ$  3)  $110^\circ$  4)  $140^\circ$



#### Часть 2

Запишите ответ к заданиям 3 и 4.

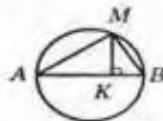
3°. Прямоугольный треугольник с катетами 12 см и 16 см вписан в окружность. Найдите ее радиус.

4°. Хорды  $AB$  и  $CD$  пересекаются в точке  $E$ . Найдите длину отрезка  $AE$ , если он в 2 раза меньше отрезка  $BE$ ,  $CE = 8$ ,  $DE = 9$ .

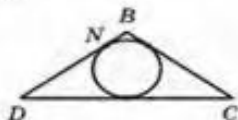
#### Часть 3

Запишите обоснованное решение задач 5 и 6.

5. На рисунке  $AB$  — диаметр окружности,  $MK \perp AB$ . Найдите длину хорды  $AM$ , если  $AK = 9$  см,  $BK = 3$  см.



6. Треугольник  $DBC$  — равнобедренный с основанием  $DC$ . Его периметр равен 34 см,  $BD = 10$  см. Найдите длину отрезка  $BN$  ( $N$  — точка касания вписанной окружности со стороной  $DB$ ).



9 класс

### Контрольная работа №1 «Решение треугольников»

#### СПЕЦИФИКАЦИЯ

1. Назначение контрольной работы – оценить уровень достижения планируемых результатов.
2. Планируемые результаты

Обучающийся научится:

Знать тригонометрические функции острых углов, находить с их помощью различные элементы прямоугольного треугольника («решение прямоугольных треугольников»). Находить (с помощью калькулятора) длины и углы для нетабличных значений.

Пользоваться формулами приведения и основным тригонометрическим тождеством для нахождения соотношений между тригонометрическими величинами.

Использовать теоремы синусов и косинусов для нахождения различных элементов треугольника («решение треугольников»), применять их при решении геометрических задач.

### 3. Характеристика структуры и содержания контрольной работы

Каждый вариант контрольной работы содержит 6 заданий, различающихся уровнем сложности.

Задания №1–6 с развернутым ответом.

### 4. Критерии оценивания контрольной работы

Верное выполненное считается заданием, если обоснованно получен верный ответ, присутствуют все шаги решения.

Оценивание каждого задания (таблица 1)

Таблица 1

Задание	№1	№2	№3	№4	№5
Баллы	3	4	5	5	5

Максимальный балл за выполнение работы составляет – 9. На основе баллов, выставленных за выполнение всех заданий работы, подсчитывается первичный балл, который переводится в отметку по пятибалльной шкале (таблица 2).

Таблица 2

#### Перевод баллов в отметку по пятибалльной шкале

Количество баллов	Рекомендуемая оценка
21-22	5
16-20	4
11-15	3
Менее 11	2

### 5. Продолжительность контрольной работы

На выполнение всей диагностической контрольной работы отводится 45 минут.

## КОДИФИКАТОР ЭЛЕМЕНТОВ СОДЕРЖАНИЯ И ПЛАНИРУЕМЫХ РЕЗУЛЬТАТОВ

### РАЗДЕЛ 1. Перечень элементов содержания, проверяемых на контрольной работе

Код	Элементы содержания, проверяемые заданиями контрольной работы
6.1	Синус, косинус, тангенс углов от 0 до 180°. Основное тригонометрическое тождество. Формулы приведения
6.2	Решение треугольников. Теорема косинусов и теорема синусов. Решение практических задач с использованием теоремы косинусов и теоремы синусов

### РАЗДЕЛ 2. Перечень планируемых результатов

Код проверяемого результата	Планируемые результаты, которые проверяются заданиями контрольной работы
6.1	Знать тригонометрические функции острых углов, находить с их помощью различные элементы прямоугольного треугольника («решение прямоугольных треугольников»). Находить (с помощью калькулятора) длины и углы для нетабличных значений

6.2	Пользоваться формулами приведения и основным тригонометрическим тождеством для нахождения соотношений между тригонометрическими величинами
6.3	Использовать теоремы синусов и косинусов для нахождения различных элементов треугольника («решение треугольников»), применять их при решении геометрических задач

### **I вариант.**

1. В треугольнике ABC  $\angle B = 35^\circ$ ,  $\angle C = 25^\circ$ . Укажите наибольшую сторону треугольника. Ответ объясните.
2. Две стороны треугольника равны 3см и 8см, а угол между ними равен  $60^\circ$ .  
Т Найдите периметр треугольника.
3. Решите треугольник ABC, если  $\angle B = 75^\circ$ ,  $\angle A = 45^\circ$ ,  $AB = 2$  см
4. Диагонали параллелограмма равны 12см и 20см, а угол между ними равен  $60^\circ$ . Найдите стороны параллелограмма.
5. В прямоугольном треугольнике один из углов равен  $\alpha$ , а катет, прилежащий к данному углу, равен  $a$ . Найдите биссектрису прямого угла.

### **II вариант.**

1. В треугольнике ABC угол  $\angle B = 55^\circ$ , угол  $\angle A = 110^\circ$ . Укажите наименьшую сторону треугольника. Ответ объясните.
2. Две стороны треугольника равны 3см и 5см, а угол между ними равен  $120^\circ$ .  
Найдите периметр треугольника.
3. Решите треугольник ABC, если угол  $\angle B = 30^\circ$ , угол  $\angle C = 105^\circ$ ,  $AC = 4$ см.
4. Стороны параллелограмма равны 10см и 16см, а угол между ними равен  $60^\circ$ .  
Найдите диагонали параллелограмма.
5. В прямоугольном треугольнике гипотенуза равна  $c$ , а один из острых углов равен  $\beta$ . Найдите биссектрису второго острого угла.

## Контрольная работа №2 «Преобразование подобия. Метрические соотношения в окружности»

### СПЕЦИФИКАЦИЯ

1. Назначение контрольной работы – оценить уровень достижения планируемых результатов.
2. Планируемые результаты

#### Обучающийся научится:

Владеть понятиями преобразования подобия, соответственных элементов подобных фигур. Пользоваться свойствами подобия произвольных фигур, уметь вычислять длины и находить углы у подобных фигур. Применять свойства подобия в практических задачах. Уметь приводить примеры подобных фигур в окружающем мире. Пользоваться теоремами о произведении отрезков хорд, о произведении отрезков секущих, о квадрате касательной.

#### 3. Характеристика структуры и содержания контрольной работы

Каждый вариант контрольной работы содержит 4 задания, различающихся уровнем сложности. Задания №1–4 с развернутым ответом.

#### 4. Критерии оценивания контрольной работы

Верное выполненным считается задание, если обоснованно получен верный ответ, присутствуют все шаги решения.

Оценивание каждого задания (таблица 1)

Таблица 1

Задание	№1	№2	№3	№4
Баллы	1	1	2	2

Максимальный балл за выполнение работы составляет – 96 На основе баллов, выставленных за выполнение всех заданий работы, подсчитывается первичный балл, который переводится в отметку по пятибалльной шкале (таблица 2).

Таблица 2

#### Перевод баллов в отметку по пятибалльной шкале

Количество баллов	Рекомендуемая оценка
6	5
4-5	4
3	3
Менее 3	2

#### 5. Продолжительность контрольной работы

На выполнение всей диагностической контрольной работы отводится 45 минут.

### КОДИФИКАТОР ЭЛЕМЕНТОВ СОДЕРЖАНИЯ И ПЛАНИРУЕМЫХ РЕЗУЛЬТАТОВ

#### РАЗДЕЛ 1. Перечень элементов содержания, проверяемых на контрольной работе

Код	Элементы содержания, проверяемые заданиями контрольной работы
6.3	Преобразование подобия. Подобие соответственных элементов
6.4	Теорема о произведении отрезков хорд, теоремы о произведении отрезков секущих, теорема о квадрате касательной

#### РАЗДЕЛ 2. Перечень планируемых результатов



Код проверяемого результата	Планируемые результаты, которые проверяются заданиями контрольной работы
6.4	Владеть понятиями преобразования подобия, соответственных элементов подобных фигур. Пользоваться свойствами подобия произвольных фигур, уметь вычислять длины и находить углы у подобных фигур. Применять свойства подобия в практических задачах. Уметь приводить примеры подобных фигур в окружающем мире
6.5	Пользоваться теоремами о произведении отрезков хорд, о произведении отрезков секущих, о квадрате касательной

1. Отрезок ВК-биссектриса угла В треугольника АВС. Найдите сторону АС , если  $AB:BC=2:3$ ,  $CK-AK=3$  см.
2. При пересечении двух хорд одна из них делится на отрезки 20 см и 4 см, а вторая – на отрезки, один из которых меньше другого на 2 см . Найдите длину второй хорды.
3. Из точки А к окружности проведены касательная  $AK=4$  см и секущая  $AE=8$  см. Найдите длину отрезка АF секущей , лежащего вне окружности.
4. Продолжения боковых сторон АВ и СД трапеции АВСД пересекаются в точке М,  $AB:BM=3:7$ , AD- большее основание трапеции. Найдите основания трапеции, если их разность равна 6 см.

### Контрольная работа №3 «Векторы»

#### СПЕЦИФИКАЦИЯ

1. Назначение контрольной работы – оценить уровень достижения планируемых результатов.
2. Планируемые результаты

#### Обучающийся научится:

Пользоваться векторами, понимать их геометрический и физический смысл, применять их в решении геометрических и физических задач. Применять скалярное произведение векторов для нахождения длин и углов.

#### 3. Характеристика структуры и содержания контрольной работы

Каждый вариант контрольной работы содержит 4 заданий, различающихся уровнем сложности. Задания №1–4 с развернутым ответом.

#### 4. Критерии оценивания контрольной работы

Верное выполненным считается задание, если обоснованно получен верный ответ, присутствуют все шаги решения.

Оценивание каждого задания (таблица 1)

Таблица 1

Задание	№1	№2	№3	№4	№5
Баллы	3	3	5	5	5

Максимальный балл за выполнение работы составляет – 96 На основе баллов, выставленных за выполнение всех заданий работы, подсчитывается первичный балл, который переводится в отметку по пятибалльной шкале (таблица 2).

Таблица 2

**Перевод баллов в отметку по пятибалльной шкале**

Количество баллов	Рекомендуемая оценка
20-21	5
16-19	4
11-15	3
Менее 11	2

**5. Продолжительность контрольной работы**

На выполнение всей диагностической контрольной работы отводится 45 минут.

**КОДИФИКАТОР ЭЛЕМЕНТОВ СОДЕРЖАНИЯ  
И ПЛАНИРУЕМЫХ РЕЗУЛЬТАТОВ**

**РАЗДЕЛ 1. Перечень элементов содержания, проверяемых на контрольной работе**

<i>Код</i>	<i>Элементы содержания, проверяемые заданиями контрольной работы</i>
6.5	Вектор, длина (модуль) вектора, сонаправленные векторы, противоположно направленные векторы, коллинеарность векторов, равенство векторов, операции над векторами. Разложение вектора по двум неколлинеарным векторам
6.6	Координаты вектора. Скалярное произведение векторов, применение для нахождения длин и углов

**РАЗДЕЛ 2. Перечень планируемых результатов**

<i>Код проверяемого результата</i>	<i>Планируемые результаты, которые проверяются заданиями контрольной работы</i>
6.6	Пользоваться векторами, понимать их геометрический и физический смысл, применять их в решении геометрических и физических задач. Применять скалярное произведение векторов для нахождения длин и углов

**Контрольная работа № 3 по теме  
«Векторы»**

**Цель:** проверить степень усвоения учащимися данной темы. Проверить умение учащихся применять изученный материал на практике

**Время проведения: 40 минут**

**Форма проведения: контрольная работа**

**Система оценивания:** Первое, второе и третье задания оцениваются в 1 балл.

Четвертое задание оценивается в 2 балла.

Количество баллов	Школьная оценка
6 баллов	«5»
4-5 баллов	«4»
3 балла	«3»
0-2 баллов	«2»

### Содержание контрольной работы

### Вариант 1

1. Начертите два неколлинеарных вектора  $a$  и  $b$ . Постройте векторы, равные: а)  $-a/2 + 3b$ ; б)  $2b - a$ .
2. На стороне ВС ромба ABCD лежит точка К так, что  $BK = KC$ , О — точка пересечения диагоналей. Выразите векторы АО, АК, КD через векторы  $a = AB$  и  $b = AD$ .
3. В равнобедренной трапеции высота делит большее основание на отрезки, равные 5 см и 12 см. Найдите среднюю линию трапеции.
4. \* В треугольнике ABC точка О — точка пересечения медиан. Выразите вектор АО через векторы  $a = AB$  и  $b = AC$ .

## Вариант 2

1. Начертите два неколлинеарных вектора  $m$  и  $n$ . Постройте векторы, равные: а)  $-m/3 + 2n$ ; б)  $3n - m$ .
2. На стороне  $CD$  квадрата  $ABCD$  лежит точка  $P$  так, что  $CP = PD$ ,  $O$  – точка пересечения диагоналей. Выразите векторы  $BO$ ,  $BP$ ,  $PA$  через векторы  $x = BA$  и  $y = BC$ .
3. В равнобедренной трапеции один из углов равен  $60^\circ$ , боковая сторона равна 8 см, а меньшее основание — 7 см. Найдите среднюю линию трапеции.
4. \* В треугольнике  $MNK$  точка  $O$  — точка пересечения медиан,  $MN = a$ ,  $MK = y$ ,  $MO = k(x + y)$ . Найдите число  $k$ .

## Контрольная работа №4 «Декартовы координаты на плоскости»

## СПЕЦИФИКАЦИЯ

- 1. Назначение контрольной работы** – оценить уровень достижения планируемых результатов.
- 2. Планируемые результаты**

### Обучающийся научится:

Пользоваться методом координат на плоскости, применять его в решении геометрических и практических задач.

### 3. Характеристика структуры и содержания контрольной работы

Каждый вариант контрольной работы содержит 4 задания, различающихся уровнем сложности.

Задания №1–4 с развернутым ответом.

#### 4. Критерии оценивания контрольной работы

Верное выполненным считается задание, если обоснованно получен верный ответ, присутствуют все шаги решения.

Оценивание каждого задания (таблица 1)

Таблица 1

Задание	№1	№2	№3	№4	№5	№6	№7	№8
---------	----	----	----	----	----	----	----	----

Баллы	1	1	1	1	1	2	2	3
-------	---	---	---	---	---	---	---	---

Максимальный балл за выполнение работы составляет – 21. На основе баллов, выставленных за выполнение всех заданий работы, подсчитывается первичный балл, который переводится в отметку по пятибалльной шкале (таблица 2).

Таблица 2

**Перевод баллов в отметку по пятибалльной шкале**

Количество баллов	Рекомендуемая оценка
11-12	5
8-10	4
4-7	3
Менее 4	2

**5. Продолжительность контрольной работы**

На выполнение всей диагностической контрольной работы отводится 45 минут.

**КОДИФИКАТОР ЭЛЕМЕНТОВ СОДЕРЖАНИЯ  
И ПЛАНИРУЕМЫХ РЕЗУЛЬТАТОВ**

**РАЗДЕЛ 1. Перечень элементов содержания, проверяемых на контрольной работе**

Код	Элементы содержания, проверяемые заданиями контрольной работы
6.7	Декартовы координаты на плоскости. Уравнения прямой и окружности в координатах, пересечение окружностей и прямых. Метод координат и его применение

**РАЗДЕЛ 2. Перечень планируемых результатов**

Код проверяемого результата	Планируемые результаты, которые проверяются заданиями контрольной работы
6.7	Пользоваться методом координат на плоскости, применять его в решении геометрических и практических задач

**Контрольная работа № 4 по теме  
«Декартовы координаты на плоскости»**

**Цель:** проверить степень усвоения учащимися данной темы. Проверить умение учащихся применять изученный материал на практике

**Время проведения: 40 минут**

**Форма проведения: контрольная работа**

**Система оценивания:** Задания части А оцениваются в 1 балл; части В – 2 балла; части С – 3 балла.

Количество набранных баллов	Оценка
11 – 12	«5»
8 – 10	«4»
4 – 7	«3»
2 – 3	«2»
0 – 1	«1»

**Содержание контрольной работы**

**Вариант 1**

**Часть А (запишите только ответ)**

1. Найди координаты середины отрезка АВ, если А (6; -7), В (4; 5).
2. Точка О – середина отрезка АС. Найди координаты точки А, если С(4; -3), а О (2; 4).
3. Найди расстояние между точками М и N, если М(8; -7), а N (11; -3).
4. Определи по уравнению окружности координаты её центра и радиус  $(x - 3)^2 + (y - 5)^2 = 25$ .
5. Найди координаты точек пересечения прямых  $4x - 2y = 0$  и  $-x + 2y = 12$ .

**Часть В** (запишите решение и ответ)

6. Составьте уравнение окружности с центром в точке О (-2; 1), проходящей через точку Т (2; -6).
7. Составьте уравнение прямой, которая проходит через точку М (2; -3) и параллельна прямой  $y = -3x + 1$ .

**Часть С** (запишите дано, полное решение и ответ)

8. Составьте уравнение прямой, которая параллельна прямой  $y = 4x - 5$  и проходит через центр окружности  $x^2 - 8x + y^2 + 10y - 40 = 0$ .

**Вариант 2**

**Часть А** (запишите только ответ)

1. Найди координаты середины отрезка ВС, если В (2; -7), С (10; 5).
2. Точка О – середина отрезка AD. Найди координаты точки А, если С(7; -2), а D (3; 5).

3. Найди расстояние между точками F и В, если F(11; -7), а В (14; -3).
4. Определи по уравнению окружности координаты её центра и радиус  $(x + 2)^2 + (y - 1)^2 = 49$ .
5. Найди координаты точек пересечения прямых  $8x - y = 17$  и  $3x + 2y = 25$ .

**Часть В** (запишите решение и ответ)

6. Составьте уравнение окружности с центром в точке О(-1; 2), проходящей через точку В(3; -5).
7. Составьте уравнение прямой, которая проходит через точку А(4; -2) и параллельна прямой  $y = 3x + 1$ .

**Часть С** (запишите дано, полное решение и ответ)

8. Найдите координаты центра и радиус окружности, заданной уравнением  $x^2 - 8x + y^2 + 2y + 16 = 0$ . Выясните положение точек А(5; -1), В(2; 4), С(4; -1) относительно этой окружности.

## Контрольная работа №4 «Правильные многоугольники. Окружность. Движение плоскости»

### СПЕЦИФИКАЦИЯ

1. Назначение контрольной работы – оценить уровень достижения планируемых результатов.
2. Планируемые результаты

#### Обучающийся научится:

Владеть понятиями правильного многоугольника, длины окружности, длины дуги окружности и радианной меры угла, уметь вычислять площадь круга и его частей. Применять полученные умения в практических задачах. Находить оси (или центры) симметрии фигур, применять движения плоскости в простейших случаях.

Применять полученные знания на практике – строить математические модели для задач реальной жизни и проводить соответствующие вычисления с применением подобия и тригонометрических функций (пользуясь, где необходимо, калькулятором).

### 3. Характеристика структуры и содержания контрольной работы

Каждый вариант контрольной работы содержит 4 задания, различающихся уровнем сложности. Задания №1–4 с развернутым ответом.

### 4. Критерии оценивания контрольной работы

Верное выполненным считается задание, если обоснованно получен верный ответ, присутствуют все шаги решения.

Оценивание каждого задания (таблица 1)

Таблица 1

Задание	№1	№2	№3	№4	№5	№6	№7	№8
Баллы	1	1	1	1	1	2	2	3

Максимальный балл за выполнение работы составляет – 21. На основе баллов, выставленных за выполнение всех заданий работы, подсчитывается первичный балл, который переводится в отметку по пятибалльной шкале (таблица 2).

Таблица 2

#### Перевод баллов в отметку по пятибалльной шкале

Количество баллов	Рекомендуемая оценка
11-12	5
8-10	4
4-7	3
Менее 4	2

### 5. Продолжительность контрольной работы

На выполнение всей диагностической контрольной работы отводится 45 минут.

## КОДИФИКАТОР ЭЛЕМЕНТОВ СОДЕРЖАНИЯ И ПЛАНИРУЕМЫХ РЕЗУЛЬТАТОВ

### РАЗДЕЛ 1. Перечень элементов содержания, проверяемых на контрольной работе

Код	Элементы содержания, проверяемые заданиями контрольной работы
6.8	Правильные многоугольники
6.9	Длина окружности. Градусная и радианная мера угла, вычисление длин дуг окружностей
6.10	Площадь круга, сектора, сегмента
6.11	Движения плоскости и внутренние симметрии фигур (элементарные представления). Параллельный перенос. Поворот

### РАЗДЕЛ 2. Перечень планируемых результатов

Код проверяемого результата	Планируемые результаты, которые проверяются заданиями контрольной работы
6.8	Владеть понятиями правильного многоугольника, длины окружности, длины дуги окружности и радианной меры угла, уметь вычислять площадь круга и его частей. Применять полученные умения в практических задачах
6.9	Находить оси или центры симметрии фигур, применять движения плоскости в простейших случаях

6.10

Применять полученные знания на практике – строить математические модели для задач реальной жизни и проводить соответствующие вычисления с применением подобия и тригонометрических функций (пользуясь, где необходимо, калькулятором)

### Содержание контрольной работы

#### Вариант 1

##### Часть А

Запиши только ответы

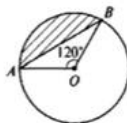
1. Найдите углы правильного  $n$ -угольника, если  $n=10$ .
2. Сколько сторон имеет правильный многоугольник, если каждый его угол равен  $135^\circ$ ?
3. Найдите длину дуги окружности радиуса 6 см, если её градусная мера равна  $90^\circ$ ?
4. Радиус закругления пути железнодорожного полотна равен 10 км, а длина дуги закругления — 800 м. Какова градусная мера дуги закругления?
5. Длина окружности равна 20 м. Найдите её площадь.

##### Часть В

Запиши краткое решение к задачам и ответ

6. Найди один (любой) из углов выпуклого пятиугольника, если его углы пропорциональны числам 1, 5, 7, 3, 11.

7. Вычислите площадь заштрихованной на рисунке фигуры, если  $BO = 3$  см,  $\angle AOB = 120^\circ$ .



##### Часть С

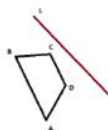
Построй рисунок к задаче, запиши дано, обоснованное решение и ответ

##### Часть С

Построй рисунок к задаче, запиши дано, обоснованное решение и ответ

8. Правильный шестиугольник вписан в окружность. Площадь кругового сектора, соответствующего центральному углу шестиугольника, равна  $3\pi$ . Найдите площадь шестиугольника.

- 9 Построить фигуру, симметричную данной относительно прямой  $l$



- 10 Построить фигуру, полученную из данной путем симметрии поворота относительно точки S

##### Вариант 2

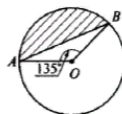
1. Найдите углы правильного  $n$ -угольника, если  $n=5$ .
2. Сколько сторон имеет правильный многоугольник, если каждый его угол равен  $60^\circ$ ?
3. Найдите длину дуги окружности радиуса 12 см, если её градусная мера равна  $30^\circ$ ?
4. Радиус закругления пути железнодорожного полотна равен 5 км, а длина дуги закругления — 400 м. Какова градусная мера дуги закругления?
5. Длина окружности равна 40 м. Найдите её площадь.

### Часть В

Запиши краткое решение к задачам и ответ

6. Два угла выпуклого многоугольника равны по  $120^\circ$ , а остальные по  $140^\circ$ . Сколько вершин имеет этот многоугольник?

7. Вычислите площадь заштрихованной на рисунке фигуры, если  $AO = 4$  см,  $\angle AOB = 135^\circ$ .



### Часть С

Построй рисунок к задаче, запиши дано, обоснованное решение и ответ

8. Правильный восьмиугольник вписан в окружность. Площадь кругового сектора, соответствующего центральному углу восьмиугольника, равна  $3\pi$ . Найдите площадь восьмиугольника.

9 Построить фигуру, симметричную данной относительно прямой  $l$

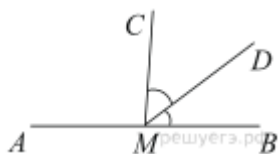


10 Построить фигуру, полученную из данной путем симметрии поворота относительно точки S  
а) на  $35^\circ$

## Итоговая контрольная работа по геометрии (9 класс)

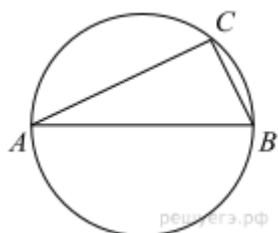
### Вариант1

1.



На прямой  $AB$  взята точка  $M$ . Луч  $MD$  — биссектриса угла  $CMB$ . Известно, что  $\angle DMC = 41^\circ$ . Найдите угол  $CMA$ . Ответ дайте в градусах.

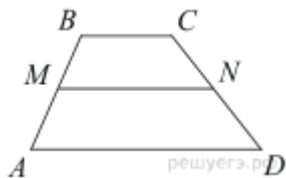
2.



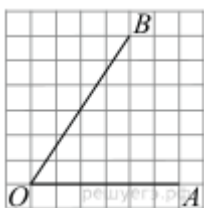
Центр окружности, описанной около треугольника  $ABC$ , лежит на стороне  $AB$ . Найдите угол  $ABC$ , если угол  $BAC$  равен  $30^\circ$ . Ответ дайте в градусах.

3.





В трапеции  $ABCD$  известно, что  $AD = 7$ ,  $BC = 5$ , а её площадь равна 72. Найдите площадь трапеции  $BCNM$ , где  $MN$  – средняя линия трапеции  $ABCD$ .



4. Найдите тангенс угла  $AOB$ , изображённого на рисунке.

5.

Какое из следующих утверждений верно?

- 1) Сумма углов выпуклого четырёхугольника равна 360 градусам.
- 2) Средняя линия трапеции равна сумме её оснований.
- 3) Любой параллелограмм можно вписать в окружность.

6.

Основания трапеции равны 16 и 34. Найдите отрезок, соединяющий середины диагоналей трапеции.

7.

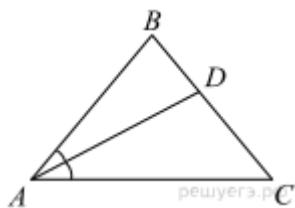
В остроугольном треугольнике  $ABC$  проведены высоты  $BB_1$  и  $CC_1$ . Докажите, что углы  $CC_1B_1$  и  $CB_1B$  равны.

8.

Медиана  $BM$  треугольника  $ABC$  равна 3 и является диаметром окружности, пересекающей сторону  $BC$  в её середине. Найдите диаметр описанной окружности треугольника  $ABC$ .

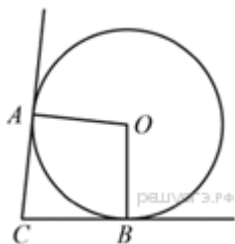
## Вариант2

1.



В треугольнике  $ABC$  известно, что  $\angle BAC = 48^\circ$ ,  $AD$  — биссектриса. Найдите угол  $BAD$ . Ответ дайте в градусах.

2.



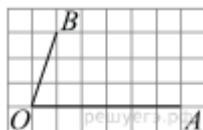
В угол  $C$  величиной  $57^\circ$  вписана окружность, которая касается сторон угла в точках  $A$  и  $B$ , точка  $O$  — центр окружности. Найдите угол  $AOB$ . Ответ дайте в градусах.

3.



Найдите площадь трапеции, изображённой на рисунке.

4.



Найдите тангенс угла  $AOB$ , изображённого на рисунке.

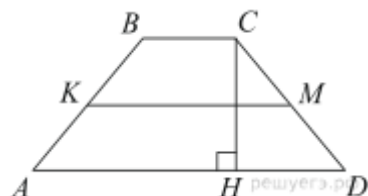
5.

Какое из следующих утверждений верно?

- 1) Диагонали параллелограмма равны.
- 2) Площадь ромба равна произведению его стороны на высоту, проведённую к этой стороне.
- 3) Если две стороны и угол одного треугольника равны соответственно двум сторонам и углу другого треугольника, то такие треугольники равны.

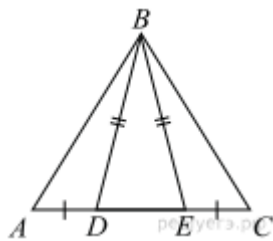
Если утверждений несколько, запишите их номера в порядке возрастания.

6.



В трапеции  $ABCD$  боковые стороны  $AB$  и  $CD$  равны,  $CH$  — высота, проведённая к большему основанию  $AD$ . Найдите длину отрезка  $HD$ , если средняя линия  $KM$  трапеции равна 16, а меньшее основание  $BC$  равно 6.

7.



На стороне  $AC$  треугольника  $ABC$  выбраны точки  $D$  и  $E$  так, что отрезки  $AD$  и  $CE$  равны (см. рисунок). Оказалось, что отрезки  $BD$  и  $BE$  тоже равны. Докажите, что треугольник  $ABC$  — равнобедренный.

8.

Три окружности, радиусы которых равны 2, 3 и 10, попарно касаются внешним образом. Найдите радиус окружности, вписанной в треугольник, вершинами которого являются центры этих трёх окружностей.